

50 25章のテスト







学年
5

制限時間
20分

合格点
80点

点

正しい図を1つえらんで、記号に○をしましょう。(5点×2問=10点)

① 生産量で青森県が1位なのはどれですか。	② 生産量で新潟県が1位なのはどれですか。
ア  イ  ウ 	ア  イ  ウ 

正しいものを1つえらんで、記号に○をしましょう。(6点×10問=60点)

① 乳牛や肉牛の畜産に向いているのは、どのような土地ですか。	ア 高い土地	イ 低い土地	ウ 広い土地
② 高知県や宮崎県などのあたたかい地方では、生産した野菜を主にどんな時期に出荷しますか。	ア 暑い時期	イ 寒い時期	ウ 遠足の時期
③ 庄内平野で冬にふく季節風は、どの方角からふいてきますか。	ア 北西	イ 北東	ウ 南西
④ 庄内平野で、夏に南東からふく季節風は、どのような風ですか。	ア あたたかくしめった風	イ あたたかくかわいた風	ウ 冷たくかわいた風
⑤ 農業以外の仕事もしている農家を何といいますか。	ア 営農指導員	イ 兼業農家	ウ 専業農家
⑥ 仕事が農業だけの農家を何といいますか。	ア 営農指導員	イ 兼業農家	ウ 専業農家
⑦ 庄内平野の気候に適していて、最も多くつくられている米の品種は何ですか。	ア はえぬき	イ コシヒカリ	ウ ササニシキ
⑧ 農家を中心とした集まりをJAといいます。正式名は何ですか。	ア 農業協同組合	イ 農林水産協会	ウ 農業試験場
⑨ 米の消費が減り、米があまってきたのは、何年前ごろからですか。	ア 約100年前	イ 約50年前	ウ 約10年前
⑩ 米をつくっていた田を減らして、米以外の作物をつくることを何といいますか。	ア 有機農業	イ 二毛作	ウ 転作

問題に答えましょう。(5点×6問=30点)

① 砂丘から飛んでくる砂から田畑を守るため、庄内平野では海岸に何を植えていますか。	ぼうさりん 防砂林
② せまい田を集めて広くしたり、水路を整備したりすることを何といいますか。	じょうせいび ほ場整備
③ 一定の温度としつ度で米を保管する施設を何といいますか。	カントリーエレベーター
④ いろいろな品種のよいところを集めて、新しい品種をつくり出すことを何といいますか。	ひんしゅかいりょう 品種改良
⑤ 全国に食料を送り出している、食料生産の多い地域を何といいますか。	しょくりょうきち 食料基地
⑥ 米の生産量を減らすための国の政策を何といいますか。	せいさんちようせい 生産調整