

49 25章の暗記表

学年
5

答えをかくしてチェックし、○か×をかきましょう。
今日、3日後、1週間後、2週間後の4回チェックします。

<p>こめ せいさんりょう もっと おお とどう ふけん 米の生産量が最も多い都道府県は どこですか。</p>	<p>にいがたけん 新潟県</p>
<p>みかんのせいさんりょう もっと おお とどう ふけん みかんの生産量が最も多い都道府県は どこですか。</p>	<p>わ か やまけん 和歌山県</p>
<p>りんごのせいさんりょう もっと おお とどう ふけん りんごの生産量が最も多い都道府県は どこですか。</p>	<p>あおもりけん 青森県</p>
<p>にくぎゅう せいさんりょう もっと おお とどう ふけん 肉牛の生産量が最も多い都道府県は どこですか。</p>	<p>ほっかいどう 北海道</p>
<p>こうちけん みやまきけん ちほう 高知県や宮崎県などのあたたかい地方では、 せいさん やさい おも しゅつか 生産した野菜を主にどんな時期に出荷しますか。</p>	<p>さむ じ き 寒い時期</p>
<p>さきゅう と すな たはた まも 砂丘から飛んでくる砂から田畑を守るため、 しょうないへい や かいがん なに う 庄内平野では海岸に何を植えていますか。</p>	<p>ほう さりん 防砂林</p>
<p>しょうないへい や ふゆ きせつふう 庄内平野で冬にふく季節風は、 どのほうかく どの方角からふいてきますか。</p>	<p>ほくせい 北西</p>
<p>しょうないへい や なつ なんとう きせつふう 庄内平野で、夏に南東からふく季節風は、 どのようなふう どのような風ですか。</p>	<p>あたたかくかわいたふう あたたかくかわいた風</p>
<p>せまい た あつ ひろく せまい田を集めて広くしたり、 すいろ せいび なん 水路を整備したりすることを何といいますか。</p>	<p>じょうせいび ほ場整備</p>
<p>しょうないへい や こうち すいでん 庄内平野の耕地のうちで水田のしめるわりあいは ぜんこく 全国とくらべてどうですか。</p>	<p>たか 高い</p>
<p>のうぎょう いがい しごと 農業以外の仕事もしている農家を なん 何といいますか。</p>	<p>けんぎょうのう か 兼業農家</p>
<p>しごと のうぎょう のうか 仕事が農業だけの農家を なん 何といいますか。</p>	<p>せんぎょうのう か 専業農家</p>
<p>いつてい おんど としつど 一定の温度としつどで こめ ほかん しせつ なん 米を保管する施設を何といいますか。</p>	<p>カントリーエレベーター</p>
<p>いろいろなひんしゅ いろいろな品種のよいところを集めて、 あたら ひんしゅ 新しい品種をつくりだすことを何といいますか。</p>	<p>ひんしゅかいりょう 品種改良</p>
<p>しょうないへい や きこう てき 庄内平野の気候に適していて、 もっと おお 最も多くつくられている米の品種は何ですか。</p>	<p>はえぬき</p>
<p>のうか ちゅうしん あつ ジェイエー 農家を中心とした集まりをJ Aといいますが、 せいしきめい なん 正式名は何ですか。</p>	<p>のうぎょうきょうどうくみあい 農業協同組合</p>
<p>ぜんこく しょくりょう おく だ 全国に食料を送り出している、 しょくりょうせいさん おお ちいき なん 食料生産の多い地域を何といいますか。</p>	<p>しょくりょう き ち 食料基地</p>
<p>こめ しょうひ へ 米の消費が減り、米があまってきたのは、 なんねんまえ 何年前ごろからですか。</p>	<p>やく ねんまえ 約50年前</p>
<p>こめ せいさんりょう へ くに せいまく 米の生産量を減らすための国の政策を なん 何といいますか。</p>	<p>せいさんちようせい 生産調整</p>
<p>こめ 米をつくっていた田を減らして、 こめ いがい さくもつ なん 米以外の作物をつくることを何といいますか。</p>	<p>てんさく 転作</p>

50 25章のテスト

学年

5

制限時間







20分

合格点

80点

点

正しい図を1つえらんで、記号に○をしましょう。(5点×2問=10点)

① 生産量 <small>せいさんりょう</small> で青森県 <small>あおもりけん</small> が1位 <small>いち</small> なのはどれですか。	② 生産量 <small>せいさんりょう</small> で新潟県 <small>にいがたけん</small> が1位 <small>いち</small> なのはどれですか。
ア  イ  ウ 	ア  イ  ウ 

正しいものを1つえらんで、記号に○をしましょう。(6点×10問=60点)

① 乳牛 <small>にゅうぎゅう</small> や肉牛 <small>にくぎゅう</small> の畜産 <small>ちくさん</small> に向いているのは、どのような土地 <small>とち</small> ですか。	ア 高い土地 <small>たかきとち</small>	イ 低い土地 <small>ひくいとち</small>	ウ 広い土地 <small>ひろいとち</small>
② 高知県 <small>こうちけん</small> や宮崎県 <small>みやざきけん</small> などのあたたかい地方 <small>ちほう</small> では、生産 <small>せいさん</small> した野菜 <small>やさい</small> を主にどんな時期 <small>じき</small> に出荷 <small>しゅつか</small> しますか。	ア 暑い時期 <small>あつじき</small>	イ 寒い時期 <small>さむじき</small>	ウ 遠足の時期 <small>えんそくのじき</small>
③ 庄内平野 <small>しょうないへいや</small> で冬 <small>ふゆ</small> にふく季節風 <small>きせつふう</small> は、どの方角 <small>ほうかく</small> からふいてきますか。	ア 北西 <small>ほくせい</small>	イ 北東 <small>ほくとう</small>	ウ 南西 <small>なんせい</small>
④ 庄内平野 <small>しょうないへいや</small> で、夏 <small>なつ</small> に南東 <small>なんとう</small> からふく季節風 <small>きせつふう</small> は、どのような風 <small>かぜ</small> ですか。	ア あたたかくしめった風 <small>かぜ</small>	イ あたたかくかわいた風 <small>かぜ</small>	ウ 冷たくかわいた風 <small>かぜ</small>
⑤ 農業 <small>のうぎょう</small> 以外の仕事 <small>しごと</small> もしている農家 <small>のうか</small> を何 <small>なん</small> とといいますか。	ア 営農指導員 <small>えいのうしどういん</small>	イ 兼業農家 <small>けんぎょうのうか</small>	ウ 専業農家 <small>せんぎょうのうか</small>
⑥ 仕事 <small>しごと</small> が農業 <small>のうぎょう</small> だけの農家 <small>のうか</small> を何 <small>なん</small> とといいますか。	ア 営農指導員 <small>えいのうしどういん</small>	イ 兼業農家 <small>けんぎょうのうか</small>	ウ 専業農家 <small>せんぎょうのうか</small>
⑦ 庄内平野 <small>しょうないへいや</small> の気候 <small>きこう</small> に適 <small>てき</small> していて、最も多 <small>おほ</small> くつくられている米 <small>こめ</small> の品種 <small>ひんしゅ</small> は何 <small>なん</small> ですか。	ア はえぬき	イ コシヒカリ	ウ ササニシキ
⑧ 農家 <small>のうか</small> を中心 <small>ちゆうしん</small> とした集まり <small>あつ</small> をJ A <small>ジェイエー</small> とありますが、正式名 <small>せいしきめい</small> は何 <small>なん</small> ですか。	ア 農業協同組合 <small>のうぎょうきどうくみあい</small>	イ 農林水産協会 <small>のうりんすいさんきょうかい</small>	ウ 農業試験場 <small>のうぎょうしけんじょう</small>
⑨ 米 <small>こめ</small> の消費 <small>しょうひ</small> が減 <small>へ</small> り、米 <small>こめ</small> があまってきたのは、何年 <small>なんねん</small> 前 <small>まえ</small> ごろからですか。	ア 約100年前 <small>やくねんまえ</small>	イ 約50年前 <small>やくねんまえ</small>	ウ 約10年前 <small>やくねんまえ</small>
⑩ 米 <small>こめ</small> をつくっていた田 <small>た</small> を減 <small>へ</small> らして、米以外 <small>こめいがい</small> の作物 <small>さくもつ</small> をつくることを何 <small>なん</small> とといいますか。	ア 有機農業 <small>ゆうきのうぎょう</small>	イ 二毛作 <small>にもうさく</small>	ウ 転作 <small>てんさく</small>

問題に答えましょう。(5点×6問=30点)

① 砂丘 <small>さきゅう</small> から飛 <small>と</small> んでくる砂 <small>すな</small> から田畑 <small>たはた</small> を守るため、庄内平野 <small>しょうないへいや</small> では海岸 <small>かいがん</small> に何を植 <small>う</small> えていますか。	
② せまい田 <small>た</small> を集めて広 <small>ひろ</small> くしたり、水路 <small>すいろう</small> を整備 <small>せいび</small> したりすることを何 <small>なん</small> とといいますか。	
③ 一定 <small>いってい</small> の温度 <small>おんど</small> としつ度 <small>ど</small> で米 <small>こめ</small> を保管 <small>ほかん</small> する施設 <small>しせつ</small> を何 <small>なん</small> とといいますか。	
④ いろいろな品種 <small>ひんしゅ</small> のよいところを集めて、新 <small>あたら</small> しい品種 <small>ひんしゅ</small> をつくり出 <small>だ</small> すことを何 <small>なん</small> とといいますか。	
⑤ 全国 <small>ぜんこく</small> に食料 <small>しょくりょう</small> を送り出 <small>むく</small> している、食料生産 <small>しょくりょうせいさん</small> の多い地域 <small>おおいちいき</small> を何 <small>なん</small> とといいますか。	
⑥ 米 <small>こめ</small> の生産量 <small>せいさんりょう</small> を減 <small>へ</small> らすための国 <small>くに</small> の政策 <small>せいさく</small> を何 <small>なん</small> とといいますか。	