

# 25 13章の暗記表

学年  
4

答えをかくしてチェックし、○か×をかきましょう。  
今日、3日後、1週間後、2週間後の4回チェックします。

110番に通報すると、 どこにつながりますか。	(けいさつ本部の)通信指令室
事故が起きたとき、 どこが交通整理をしますか。	けいさつしょ
事故が起きたとき、 どこが救急車を出動させますか。	しょうぼう 消防しょ
事故が起きたとき、 レッカー車は何を移動しますか。	じこしゃ 事故車
事故の原因を調べるために、 けいさつは何をしますか。	げんば 現場をくわしく調べ、目撃者に話を聞く。
信号機が多いのは、 どこですか。	こうさてん 交差点
スクールゾーンに設定されている道は、 朝の通学時間に、何が禁止されますか。	じどうしゃ とうこう 自動車の通行
このひょうしきは、 何を表しますか。	ほ こうしやせんよう 歩行者専用
このひょうしきは、 何を表しますか。	じてんしやおうだんたい 自転車横断帯
目の不自由な人の歩行を助けるためのタイルを 何とといいますか。	てんじ 点字ブロック
どろぼうなどの犯人をつかえるのは、 どの係のけいさつ官ですか。	けいじがかり 刑事係
交通違反を取りしめるのは、 どの係のけいさつ官ですか。	こうつうがかり 交通係
交番で道案内などをするのは、 どの係のけいさつ官ですか。	ち がかり 地いき係
交通管制センターのけいさつ官は、 どのような仕事をしますか。	しんごうき ちょうせつ 信号機の調節など
音楽隊のけいさつ官は、 どのような仕事をしますか。	コンサートで、けいさつの仕事を知らせる。
子どもたちが助けを求められるようにしている 店や家を、何とといいますか。	こども 110番
立ち番の人たちは、 登下校の時間に、何をしていますか。	つうがくろ あんぜん みまも 通学路の安全を見守っている。
事件や事故が起きやすい危険な場所を 書き入れた地図を、何とといいますか。	あんぜん 安全マップ
事件が起きやすいのは、 どのような場所ですか。	くら ひと すく ばしよ 暗くて人が少ない場所
事故が起きやすいのは、 どのような場所ですか。	こうつうりょう おお ばしよ みとお わる ばしよ 交通量の多い場所や、見通しの悪い場所

# 26 13章のテスト







学年  
4

制限時間  
20分

合格点  
80点

点

正しい図を1つえらんで、記号に○をしましょう。(5点×2問=10点)

① 歩行者専用のひょうしきはどれですか。	② 自転車横断帯のひょうしきはどれですか。
ア  イ  ウ 	ア  イ  ウ 

正しいものを1つえらんで、記号に○をしましょう。(6点×10問=60点)

① 事故が起きたとき、どこが交通整理をしますか。	ア 消防しょ	イ けいさつしょ	ウ PTA
② 事故が起きたとき、どこが救急車を出動させますか。	ア 消防しょ	イ けいさつしょ	ウ PTA
③ 事故が起きたとき、レッカー車は何を移動しますか。	ア パトロールカー	イ 白バイ	ウ 事故車
④ 信号機が多いのは、どこですか。	ア 高速道路	イ 交差点	ウ 歩行者専用道路
⑤ スクールゾーンに設定されている道は、朝の通学時間に、何が禁止されますか。	ア 歩行者の通行	イ 自転車の通行	ウ 自動車の通行
⑥ どろぼうなどの犯人をつかえるのは、どの係のけいさつ官ですか。	ア 刑事係	イ 交通係	ウ 地いき係
⑦ 交番で道案内などをするのは、どの係のけいさつ官ですか。	ア 刑事係	イ 交通係	ウ 地いき係
⑧ 交通管制センターのけいさつ官は、どのような仕事をしますか。	ア 信号機の調節など	イ コンサートなど	ウ 事件の調査など
⑨ 子どもたちが助けを求められるようにしている店や家を、何とといいますか。	ア こども119番	イ こども110番	ウ こども111番
⑩ 事件や事故が起きやすい危険な場所を書き入れた地図を、何とといいますか。	ア 安全マップ	イ 日本地図	ウ トレジャーマップ

問題に答えましょう。(5点×6問=30点)

① 110番に通報すると、どこにつながりますか。	
② 事故の原因を調べるために、けいさつは何をしますか。	
③ 目の不自由な人の歩行を助けるためのタイルを何とといいますか。	
④ 立ち番の人たちは、登下校の時間に、何をしていますか。	
⑤ 事件が起きやすいのは、どのような場所ですか。	
⑥ 事故が起きやすいのは、どのような場所ですか。	