

14 7章のテスト







学年
3

制限時間
20分

合格点
80点

点

正しい図を1つえらんで、記号に○をしましょう。(5点×2問=10点)

<p>① うねはどれですか。</p> <p>ア  イ  ウ </p>	<p>② ビニールハウスはどれですか。</p> <p>ア  イ  ウ </p>
---	---

正しいものを1つえらんで、記号に○をしましょう。(6点×10問=60点)

① 野菜、くだもの、米などをつくることを仕事にしている人を何とといいますか。	ア 農家	イ 農業	ウ 農作物
② 動物のふん、落ち葉、ざっ草、わらなどからつくられたひりょうを何とといいますか。	ア かがくひりょう	イ 農業	ウ たいひ
③ たねからめを出したばかりの作物を何とといいますか。	ア 子葉	イ なえ	ウ 実
④ うねに植えるのに向いているのは、どんな作物ですか。	ア 水に強い作物	イ 水に弱い作物	ウ 日光に弱い作物
⑤ 作物をとり入れることを何とといいますか。	ア たねまき	イ 田植え	ウ しゅうかく
⑥ 農業協同組合のことを、えいご2文字で何とといいますか。	ア JA	イ NK	ウ AC
⑦ 仙台のまがりねぎは、どのくらい前からつくられ始めましたか。	ア 50年以上前	イ 100年以上前	ウ 200年以上前
⑧ 太くてじょうぶなねぎをつくるためには、なえをどのように植えればよいですか。	ア 小さいじゆんに植える	イ いろいろなしゆるいを植える	ウ 間かくをあけて植える
⑨ まがりねぎのまがった部分は、何色ですか。	ア 緑色	イ 黒色	ウ 白色
⑩ まがりねぎのとり入れや皮むきは、どのように行いますか。	ア 農家の人が手作業で行う	イ 買う人が手作業で行う	ウ 農家の人がきかいで行う

問題に答えましょう。(5点×6問=30点)

① どうすれば作物を育てやすい土になりますか。	たがやしたり、ひりょうを入れたりする。
② うねに作物を植えるのはなぜですか。	水はけがよく、日光がよくあたるから。
③ 日本の農産物が外国でも人気なのはなぜですか。	おいしくて安全だから。
④ むき取ったねぎを横にねかせ、根元に土をかけることを何とといいますか。	やとい
⑤ まがりねぎは、なぜまがるのですか。	日光をもとめてまがる。
⑥ まがりねぎのまがった部分の味やかたさはどうですか。	あまくてやわらかい。