

13 7章の暗記表

学年
3

答えをかくしてチェックし、○か×をかきましょう。
今日、3日後、1週間後、2週間後の4回チェックします。

野菜、くだもの、米などをつくることを 仕事にしている人を何といいますか。	農家
どうすれば 作物を育てやすい土になりますか。	たがやしたり、ひりょうを入れたりする。
動物のふん、落ち葉、ざっ草、わらなどから つくられたひりょうを何といいますか。	たいひ
たねからめを出したばかりの作物を 何といいますか。	なえ
畑に作物を植えるために、 土をもり上げたところを何といいますか。	うね
うねに作物を植えるのは なぜですか。	水はけがよく、日光がよくあたるから。
うねに植えるのに向いているのは、 どんな作物ですか。	水に弱い作物
作物に虫がついたり、病気になるの をふせぐために何をしますか。	農薬をまく。
農作業をこうりつよく行うために 何を使いますか。	きかい
まわりにビニールをはった温室を 何といいますか。	ビニールハウス
作物をとり入れることを 何といいますか。	しゅうかく
農業協同組合のことを、 えいご2文字で何といいますか。	ジェイエー J A
日本の農産物が 外国でも人気なのはなぜですか。	おいしくて安全だから。
仙台のまがりねぎは、 どのくらい前からつくられ始めましたか。	100年以上前
太くてじょうぶなねぎをつくるためには、 なえをどのように植えればよいですか。	間かくをあけて植える。
ぬき取ったねぎを横にねかせ、 根元に土をかけることを何といいますか。	やとい
まがりねぎは、 なぜまがるのですか。	日光をもとめてまがる。
まがりねぎのまがった部分は、 何色ですか。	しろいろ 白色
まがりねぎのまがった部分の 味やかたさはどうですか。	あまくてやわらかい。
まがりねぎのとり入れや皮むきは、 どのように行いますか。	ひとつひとつ手作業で行う。

14 7章のテスト

学年

3

制限時間







20分

合格点

80点

点

正しい図を1つえらんで、記号に○をしましょう。(5点×2問=10点)

① うねはどれですか。	② ビニールハウスはどれですか。
ア  イ  ウ 	ア  イ  ウ 

正しいものを1つえらんで、記号に○をしましょう。(6点×10問=60点)

① 野菜、くだもの、米などをつくることを仕事にしている人を何とといいますか。	ア 農家	イ 農業	ウ 農作物
② 動物のふん、落ち葉、ざっ草、わらなどからつくられたひりょうを何とといいますか。	ア かがくひりょう	イ 農業	ウ たいひ
③ たねからめを出したばかりの作物を何とといいますか。	ア 子葉	イ なえ	ウ 実
④ うねに植えるのに向いているのは、どんな作物ですか。	ア 水に強い作物	イ 水に弱い作物	ウ 日光に弱い作物
⑤ 作物をとり入れることを何とといいますか。	ア たねまき	イ 田植え	ウ しゅうかく
⑥ 農業協同組合のことを、えいご2文字で何とといいますか。	ア JA	イ NK	ウ AC
⑦ 仙台のまがりねぎは、どのくらい前からつくられ始めましたか。	ア 50年以上前	イ 100年以上前	ウ 200年以上前
⑧ 太くてじょうぶなねぎをつくるためには、なえをどのように植えればよいですか。	ア 小さいじゆんに植える	イ いろいろなしゆるいを植える	ウ 間かくをあけて植える
⑨ まがりねぎのまがった部分は、何色ですか。	ア 緑色	イ 黒色	ウ 白色
⑩ まがりねぎのとり入れや皮むきは、どのように行いますか。	ア 農家の人が手作業で行う	イ 買う人が手作業で行う	ウ 農家の人がきかいで行う

問題に答えましょう。(5点×6問=30点)

① どうすれば作物を育てやすい土になりますか。	
② うねに作物を植えるのはなぜですか。	
③ 日本の農産物が外国でも人気なのはなぜですか。	
④ むき取ったねぎを横にねかせ、根元に土をかけることを何とといいますか。	
⑤ まがりねぎは、なぜまがるのですか。	
⑥ まがりねぎのまがった部分の味やかたさはどうですか。	