







<h1>12 3章のテスト</h1>	章 3	制限時間 20分	合格点 80点	点
--------------------	--------	-------------	------------	---

正しい図を1つえらんで、記号に○をしましょう。(5点×2問=10点)

<p>① 歩行者専用のひょうしきはどれですか。</p> <p>ア  イ  ウ </p>	<p>② 自転車横断帯のひょうしきはどれですか。</p> <p>ア  イ  ウ </p>
--	--

正しいものを1つえらんで、記号に○をしましょう。(6点×10問=60点)

① 事故が起きたとき、どこが交通整理をしますか。	ア 消防しょ	イ けいさつ しょ	ウ PTA
② 事故が起きたとき、どこが救急車を出動させますか。	ア 消防 しょ	イ けいさつしょ	ウ PTA
③ 事故が起きたとき、レッカー車は何を移動しますか。	ア パトロールカー	イ 白パイ	ウ 事故車
④ 信号機が多いのは、どこですか。	ア 高速道路	イ 交差点	ウ 歩行者専用道路
⑤ スクールゾーンに設定されている道は、朝の通学時間に、何が禁止されますか。	ア 歩行者の通行	イ 自転車の通行	ウ 自動車の通行
⑥ どろぼうなどの犯人をつかえるのは、どの係のけいさつ官ですか。	ア 刑事 係	イ 交通係	ウ 地いき係
⑦ 交番で道案内などをするのは、どの係のけいさつ官ですか。	ア 刑事係	イ 交通係	ウ 地いき 係
⑧ 交通管制センターのけいさつ官は、どのような仕事をしますか。	ア 信号機 の調節など	イ コンサートなど	ウ 事件の調査など
⑨ 子どもたちが助けを求められるようにしている店や家を、何とといいますか。	ア こども119番	イ こども110番	ウ こども111番
⑩ 事件や事故が起きやすい危険な場所を書き入れた地図を、何とといいますか。	ア 安全 マップ	イ 日本地図	ウ トレジャーマップ

問題に答えましょう。(5点×6問=30点)

① 110番に通報すると、どこにつながりますか。	(けいさつ 本部 の)通信指令室
② 事故の原因を調べるために、けいさつは何をしますか。	現場をくわしく調べ、目げき者に話を聞く。
③ 目の不自由な人の歩行を助けるためのタイルを何とといいますか。	点字ブロック
④ 立ち番の人たちは、登下校の時間に、何をしていますか。	通学路の安全を見守っている。
⑤ 事件が起きやすいのは、どのような場所ですか。	暗くて人が少ない場所
⑥ 事故が起きやすいのは、どのような場所ですか。	交通量の多い場所や、見通しの悪い場所