

9 事故からくらしを守る

章
3

制限時間
20分

合格点
80点

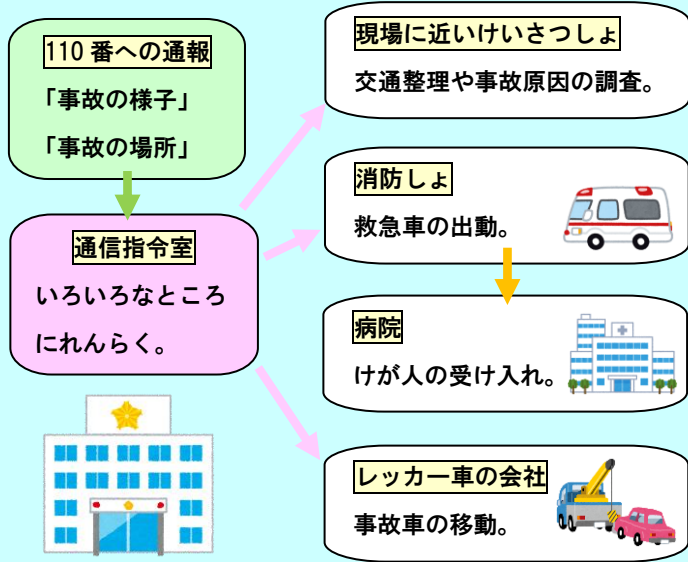
点

太字をなぞって書きましょう。

交通事故が起きたとき、けがをした人がいたら、すぐに助けることが大切です。

110番に通報すると、けいさつ本部の通信指令室につながります。

事故の様子や場所などを、落ち着いて、正確に伝えましょう。



けいさつ本部の通信指令室は、
現場に近いけいさつしょや、
 パトロール中のけいさつ官にれんらくします。
 けが人がいるときは、
消防しょにれんらくし、救急隊をよびます。
消防しょは、病院にけが人の受け入れをお願いします。
 事故をした自動車^{じどうしゃ}が動かない場合は、
レッカー車の会社にれんらくし、
 事故車を移動してもらいます。

現場にかけつけたけいさつ官は、交通整理をして、道路の安全をかくほします。

また、事故が起きてしまった原因を調べます。

現場の様子をくわしく調べ、目撃者の話を聞くのは、速さが大切です。



道路には、交通事故を防ぐためのしせつがたくさんあります。

信号機は、**交差点に多く**、青信号のときに音になるものもあります。

信号やひょうしきを守り、急なとびだしをしないようにしましょう。



通学路のような、子どもがよく通る道は、
スクールゾーンに設定されていて、
 朝の通学時間は、自動車の通行が禁止されます。
 通学路でよく見かけるひょうしきは、
歩行者専用、歩行者および自転車専用、
歩行者横断禁止、自転車横断帯などがあります。
 目の不自由な人の歩行を助けるためのタイルを
点字ブロックといいます。
 点字ブロックに自転車などを放置してはいけません。

けいさつは、地いきの人と協力しながら、事故をへらすために努力しています。

交通事故をへらすためには、道路交通法などの**法**や**きまり**を守ることが大切です。

一人ひとりがルールを守って、安全な生活を送れるように努力しましょう。



太字をなぞって書きましょう。

けいさつ官は、ふだんは「刑事係」「交通係」「地いき係」などの係に分かれて仕事をしています。

しかし、大きな**事件**や**事故**が起きたときには、みんなで力を合わせて活動します。

けいさつ官の仕事には、どのようなものがあるでしょうか。

刑事係



交通係



「刑事係」のけいさつ官は、
どろぼうなどの**犯人**をつかまえたり、
ぼうりよく団を取りしまったりします。

「交通係」のけいさつ官は、

交通い**反**の取りしまりや、
交通ルールやマナーの指導を行います。

「地いき係」のけいさつ官は、

交番などの活動を中心にして、
道案内、落とし物の受けつけ、パトロールなどをします。

地いき係



けいさつ官は、ほかにもたくさんの仕事をして、わたしたちのくらしを守ってくれます。

交通管制センターのけいさつ官は、道路のこみぐあいを調べ、**信号機**の調節などを行います。

音楽隊のけいさつ官は、ふれあいコンサートなどを開き、けいさつ仕事をみんなに知ってもらいます。

けいさつだけでなく、地いきの人たちも、まちの安全を守るために活動しています。

こども110番は、いざというときに、子どもたちが助けを求められるようにしている店や家です。

わかりやすいように、こども110番のステッカーやポスターがはってあります。

こども110番



パトロール



PTAや町内会の人たちは、
地いきを**パトロール**して、
変わったことがないかを見て回ります。

登下校の時間の立ち番の人たちは、

通学路の**横断歩道**などで、

交通の安全などを見守ります。

まちの安全を守るために、

防犯カメラをつけている地いきもあります。

防犯カメラがあると、事件が起こりにくくなります。

立ち番



防犯カメラ



事件や事故が起きやすい危険な場所を地図に書き入れて、安全マップをつくりましょう。

夜の公園や、地下の駐車場のよう、**暗くて人が少ないところ**は事件が起きやすく、

交通量の多いところや、見通しの悪いところは事故が起きやすいです。

11 3章の暗記表







章
3

答えをかくしてチェックし、○か×をかきましょう。
今日、3日後、1週間後、2週間後の4回チェックします。

110番に通報すると、 どこにつながりますか。	(けいさつ本部の)通信指令室
事故が起きたとき、 どこが交通整理をしますか。	けいさつしょ
事故が起きたとき、 どこが救急車を出動させますか。	しょうぼう 消防しょ
事故が起きたとき、 レッカー車は何を移動しますか。	じこしゃ 事故車
事故の原因を調べるために、 けいさつは何をしますか。	げんば 現場をくわしく調べ、目撃者に話を聞く。
信号機が多いのは、 どこですか。	こうさてん 交差点
スクールゾーンに設定されている道は、 朝の通学時間に、何が禁止されますか。	じどうしゃ つうこう 自動車の通行
このひょうしきは、 何を表しますか。	ほ こうしやせんよう 歩行者専用
このひょうしきは、 何を表しますか。	じてんしやおうだんたい 自転車横断帯
目の不自由な人の歩行を助けるためのタイルを 何といいますか。	てんじ 点字ブロック
どろぼうなどの犯人をつかえるのは、 どの係のけいさつ官ですか。	けいじがかり 刑事係
交通違反を取りしめるのは、 どの係のけいさつ官ですか。	こうつうがかり 交通係
交番で道案内などをするのは、 どの係のけいさつ官ですか。	ち がかり 地いき係
交通管制センターのけいさつ官は、 どのような仕事をしますか。	しんごうき ちょうせつ 信号機の調節など
音楽隊のけいさつ官は、 どのような仕事をしますか。	コンサートで、けいさつの仕事を知らせる。
子どもたちが助けを求められるようにしている 店や家を、何といいますか。	こども 110番
立ち番の人たちは、 登下校の時間に、何をしていますか。	つうがくろ あんぜん みまも 通学路の安全を見守っている。
事件や事故が起きやすい危険な場所を 書き入れた地図を、何といいますか。	あんぜん 安全マップ
事件が起きやすいのは、 どのような場所ですか。	くら ひと すく ばしょ 暗くて人が少ない場所
事故が起きやすいのは、 どのような場所ですか。	こうつうりょう おお ばしょ みとお わる ばしょ 交通量の多い場所や、見通しの悪い場所

12 3章のテスト	章 3	制限時間 20分	合格点 80点	点
-----------	--------	-------------	------------	---

正しい図を1つえらんで、記号に○をしましょう。(5点×2問=10点)

<p>① 歩行者専用のひょうしきはどれですか。</p> <p>ア  イ  ウ </p>	<p>② 自転車横断帯のひょうしきはどれですか。</p> <p>ア  イ  ウ </p>
--	--

正しいものを1つえらんで、記号に○をしましょう。(6点×10問=60点)

①	事故が起きたとき、どこが交通整理をしますか。	ウ PTA
	ア 消防しょ	イ けいさつしょ
②	事故が起きたとき、どこが救急車を出動させますか。	ウ PTA
	ア 消防しょ	イ けいさつしょ
③	事故が起きたとき、レッカー車は何を移動しますか。	ウ 事故車
	ア パトロールカー	イ 白バイ
④	信号機が多いのは、どこですか。	ウ 歩行者専用道路
	ア 高速道路	イ 交差点
⑤	スクールゾーンに設定されている道は、朝の通学時間に、何が禁止されますか。	ウ 自動車の通行
	ア 歩行者の通行	イ 自転車の通行
⑥	どろぼうなどの犯人をつかえるのは、どの係のけいさつ官ですか。	ウ 地いき係
	ア 刑事係	イ 交通係
⑦	交番で道案内などをするのは、どの係のけいさつ官ですか。	ウ 地いき係
	ア 刑事係	イ 交通係
⑧	交通管制センターのけいさつ官は、どのような仕事をしますか。	ウ 事件の調査など
	ア 信号機の調節など	イ コンサートなど
⑨	子どもたちが助けを求められるようにしている店や家を、何とといいますか。	ウ こども111番
	ア こども119番	イ こども110番
⑩	事件や事故が起きやすい危険な場所を書き入れた地図を、何とといいますか。	ウ トレジャーマップ
	ア 安全マップ	イ 日本地図

問題に答えましょう。(5点×6問=30点)

①	110番に通報すると、どこにつながりますか。	
②	事故の原因を調べるために、けいさつは何をしますか。	
③	目の不自由な人の歩行を助けるためのタイルを何とといいますか。	
④	立ち番の人たちは、登下校の時間に、何をしていますか。	
⑤	事件が起きやすいのは、どのような場所ですか。	
⑥	事故が起きやすいのは、どのような場所ですか。	