

# 45 表とグラフ(1)

制限時間

20分

開始時間

■時■分

終了時間

■時■分

合格点

80点

人数などを調べるとき、「正」の字を使って数えることがあります。

数が1ふえるごとに「正」の画数が1画ふえて、5で「正」がかんせいします。

「正」の字でかかれた表を数字で書きましょう。(10点×2問=20点)

① 3年1組で調べた「好きな教科」	② 3年2組で調べた「好きなスポーツ」
国語	野球(やきゅう)
算数	サッカー
理科	ドッジボール
社会	バスケットボール
その他	その他

調べたことを「正」の字と数字で表にまとめ、あとの問題に答えましょう。(40点×2問=80点)

① 3年3組で調べた「すきなくだもの」	② 3年4組で調べた「好きなペット」						
りんご	みかん	いちご	メロン	ねこ	犬	犬	かめ
いちご	ぶどう	みかん	いちご	きんぎょ	ねこ	うさぎ	犬
すいか	いちご	りんご	なし	犬	うさぎ	かめ	ねこ
みかん	かき	いちご	みかん	ねこ	へび	犬	犬
いちご	メロン	バナナ	りんご	うさぎ	犬	ねこ	かめ
りんご				犬			
いちご				ねこ			
みかん				うさぎ			
メロン				かめ			
その他				その他			
一番人気のあるくだものは何ですか?				一番人気のあるペットは何ですか?			
りんごとメロンはどちらが人気ですか?				ねことうさぎはどちらが人気ですか?			
りんごとみかんはどちらが人気ですか?				その他のペットは何と何ですか?			
3年1組はぜんぶで何人いますか?				3年2組はぜんぶで何人いますか?			

# 46 表とグラフ(2)

制限時間

20分

開始時間

■時■分

終了時間

■時■分

合格点

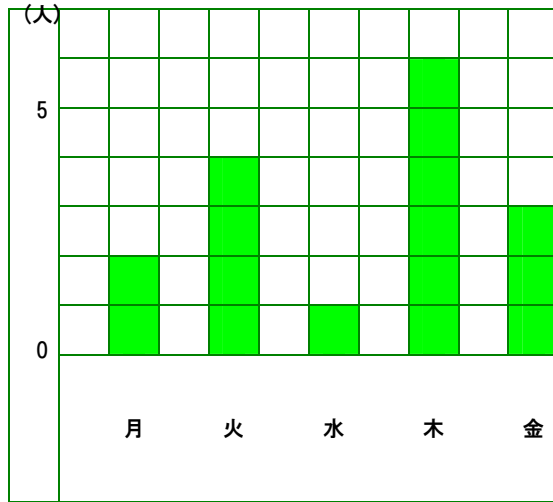
80点

ぼうの長さで数を表したグラフをぼうグラフといいます。

ぼうグラフを使うと、数が多いか少ないかが見ただけで分かります。

ぼうグラフを見て、問題に答えましょう。(25点×4問=100点)

## ① 先週けっせきした3年生の人数

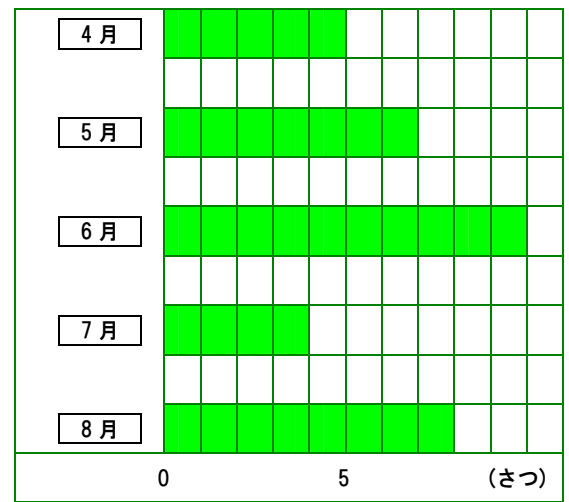


けっせきした人数が一番多かったのは、何曜日ですか？

1目もりは、何人を表していますか？

火曜日は、何人けっせきしましたか？

## ② まこと君が図書館でかりた本の数

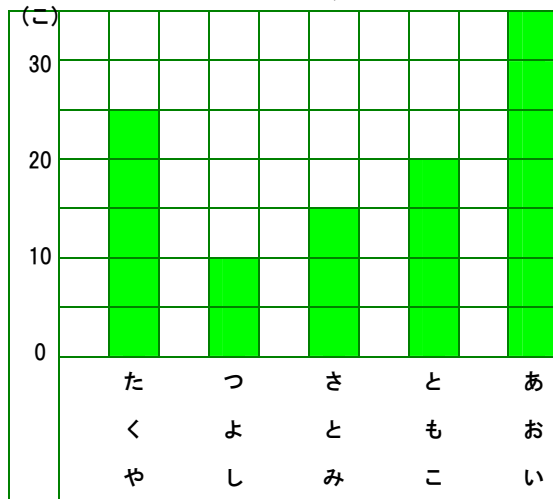


かりた本の数が一番少なかったのは、何月ですか？

1目もりは、何さつを表していますか？

まこと君が5月にかりた本は、何さつですか？

## ③ 公園でひろったどんぐりの数

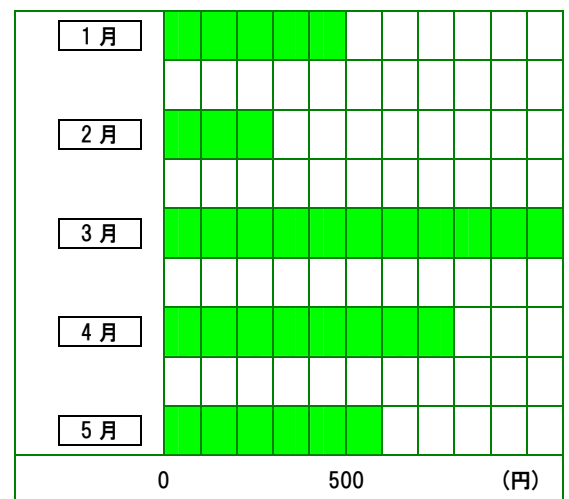


一番多くどんぐりをひろったのは、だれですか？

1目もりは、何こを表していますか？

たくや君は、つよし君より何こ多くひろいましたか？

## ④ なみさんがちょ金箱に入れた金がかく



一番多くちょ金箱に入れたのは、何月ですか？

1目もりは、何円を表していますか？

4月と5月のちょ金のちがいは、何円ですか？

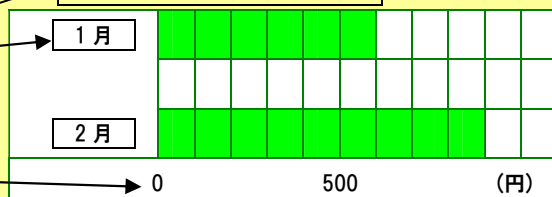
# 47 表とグラフ(3)

制限時間	開始時間	終了時間	合格点
20分	■時■分	■時■分	80点

ぼうグラフをかくときは、次のことに気をつけましょう。

- ① 何について調べたのか、表題(ひょうだい)をかく。
- ② くらべるしゅるいをかく。
- ③ 見やすいように、1目もりの大きさを決める。
- ④ 目もりが表す数と、目もりのたんいをかく。

ちよ金箱に入れた金がく

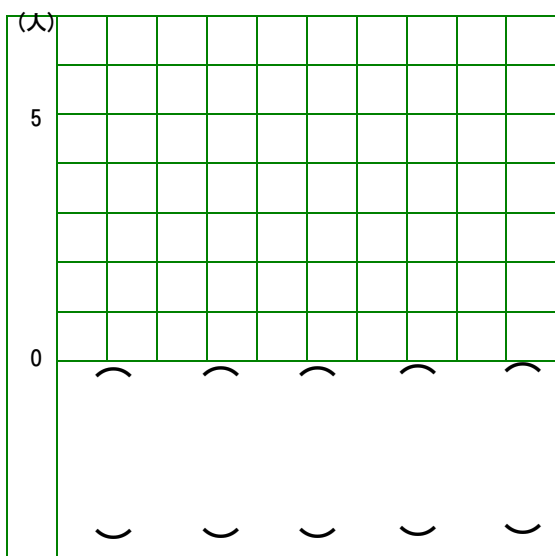


表を見て、ぼうグラフをかんせいさせましょう。(25点×4問=100点)

## ① すきな教科

国語	算数	理科	社会	その他
6人	7人	3人	4人	5人

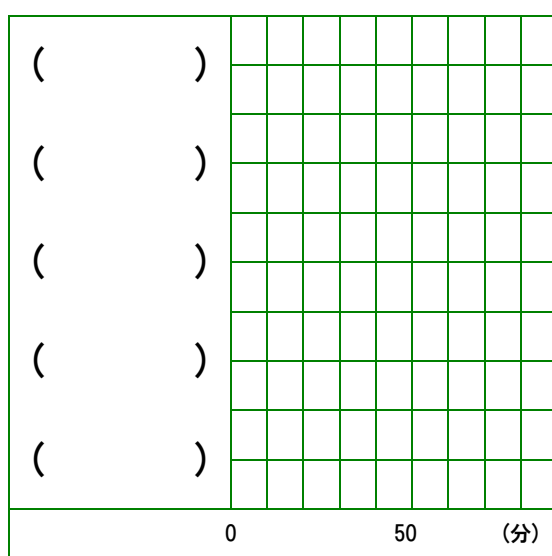
表題 ( )



## ② 家でべんきょうをした時間

月	火	水	木	金
60分	80分	30分	40分	70分

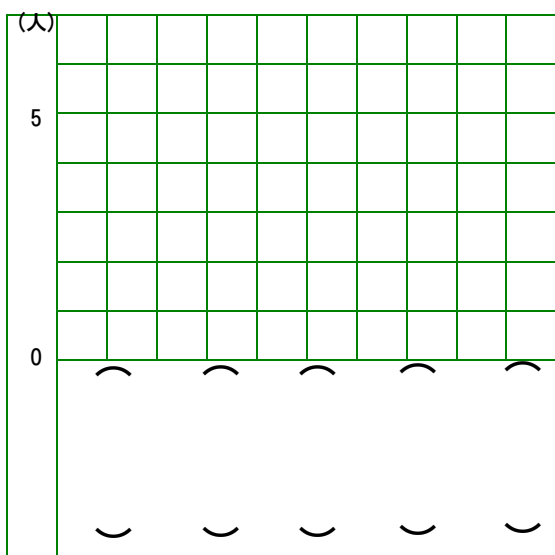
表題 ( )



## ③ すきなくだもの

りんご	いちご	みかん	メロン	その他
5人	7人	2人	4人	6人

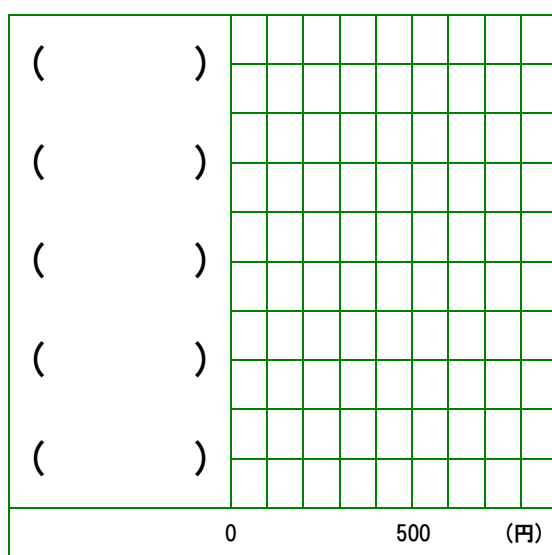
表題 ( )



## ④ ちよ金箱に入れた金がく

1月	2月	3月	4月	5月
200円	500円	900円	300円	800円

表題 ( )



# 48 表とグラフ(4)

制限時間

開始時間

終了時間

合格点

20分

■時■分

■時■分

80点

表をまとめて、たてとよこの合計を出すと、全体のようによく分かります。

表を見て、問題に答えましょう。(25点×4問=100点)

## ① すきなスポーツ調べ (人)

	男子	女子	先生	合計
野球	12	4	4	20
サッカー	18	7	3	28
テニス	7	14	2	23
バスケ	9	16	2	27
バレー	4	10	1	
合計	50	51	12	113

全体で一番人気のあるスポーツは、どれですか？

女子に一番人気のあるスポーツは、どれですか？

野球が好きな先生は、何人いますか？

テニスが好きな男子は、何人いますか？

バレーが好きな人の合計は、何人ですか？

## ② 学校のけが調べ (人)

	9月	10月	11月	合計
すりきず	7	4	9	20
切りきず	1	6	8	15
ねんざ	0	2	1	3
だぼく	3	1	2	
その他	2	4	5	11
合計	13	17	25	55

全体で一番多かったけがのしゅるいは、どれですか？

10月に一番多かったけがのしゅるいは、どれですか？

一番けがが多かった月は、何月ですか？

11月にねんざをした人は、何人ですか？

だぼくをした人の合計は、何人ですか？

## ③ すきな教科調べ (人)

	4年	5年	6年	合計
国語	20	16	24	60
算数	25	15	22	62
理科	11	12	9	32
社会	9	18	14	41
その他	17	17	15	49
合計	82	78	84	244

全体で一番人気のある教科は、どれですか？

5年生に一番人気のある教科は、どれですか？

理科が好きな4年生は、何人いますか？

国語が好きな6年生は、何人いますか？

4年生と5年生と6年生を合わせると、何人いますか？

## ④ けっせき調べ (人)

	1組	2組	3組	合計
9月	10	5	7	22
10月	8	9	10	27
11月	7	12	4	23
12月	16	19	11	46
1月	5	6	4	
合計	46	51	36	133

けっせきした合計が一番多かったのは、何月ですか？

けっせきした合計が一番少なかったのは、何組ですか？

12月に1組でけっせきしたのは、何人ですか？

1月にけっせきした人数の合計は、何人ですか？

けっせきした人数が6人だったのは、何月の何組ですか？

# 45 表とグラフ(1)

制限時間

20分

開始時間

■時■分

終了時間

■時■分

合格点

80点

人数などを調べるとき、「正」の字を使って数えることがあります。

数が1ふえるごとに「正」の画数が1画ふえて、5で「正」がかんせいします。

「正」の字でかかれた表を数字で書きましょう。(10点×2問=20点)

① 3年1組で調べた「好きな教科」	② 3年2組で調べた「好きなスポーツ」
国語	野球(やきゅう)
算数	サッカー
理科	ドッジボール
社会	バスケットボール
その他	その他

調べたことを「正」の字と数字で表にまとめ、あとの問題に答えましょう。(40点×2問=80点)

① 3年3組で調べた「すきなくだもの」	② 3年4組で調べた「好きなペット」
りんご	ねこ
いちご	犬
すいか	犬
みかん	ねこ
いちご	うさぎ
りんご	かめ
いちご	犬
みかん	ねこ
メロン	うさぎ
その他	犬
一番人気のあるくだものは何ですか?	一番人気のあるペットは何ですか?
りんごとメロンはどちらが人気ですか?	ねことうさぎはどちらが人気ですか?
りんごとみかんはどちらが人気ですか?	その他のペットは何と何ですか?
3年1組はぜんぶで何人いますか?	3年2組はぜんぶで何人いますか?

# 46 表とグラフ(2)

制限時間

20分

開始時間

■時■分

終了時間

■時■分

合格点

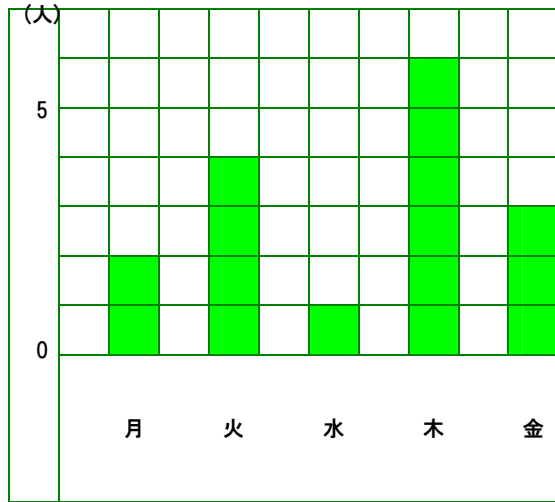
80点

ぼうの長さで数を表したグラフをぼうグラフといいます。

ぼうグラフを使うと、数が多いか少ないかが見ただけで分かります。

ぼうグラフを見て、問題に答えましょう。(25点×4問=100点)

## ① 先週けっせきした3年生の人数



けっせきした人数が一番多かったのは、何曜日ですか？

**木曜日**

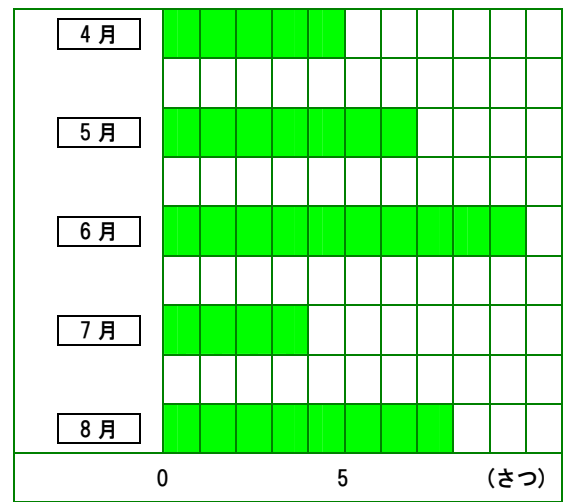
1目もりは、何人を表していますか？

**1人**

火曜日は、何人けっせきしましたか？

**4人**

## ② まこと君が図書館でかりた本の数



かりた本の数が一番少なかったのは、何月ですか？

**7月**

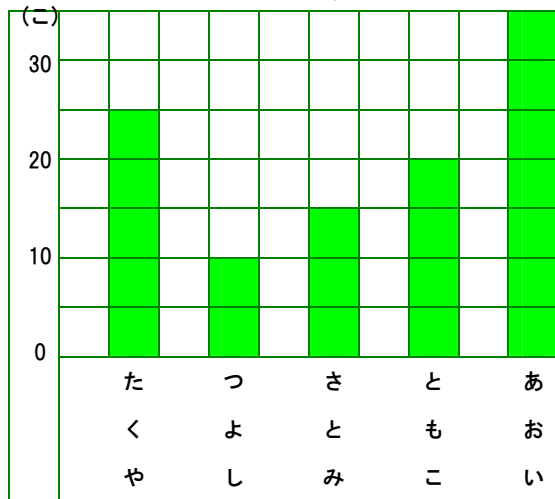
1目もりは、何さつを表していますか？

**1さつ**

まこと君が5月にかりた本は、何さつですか？

**7さつ**

## ③ 公園でひろったどんぐりの数



一番多くどんぐりをひろったのは、だれですか？

**あおい**

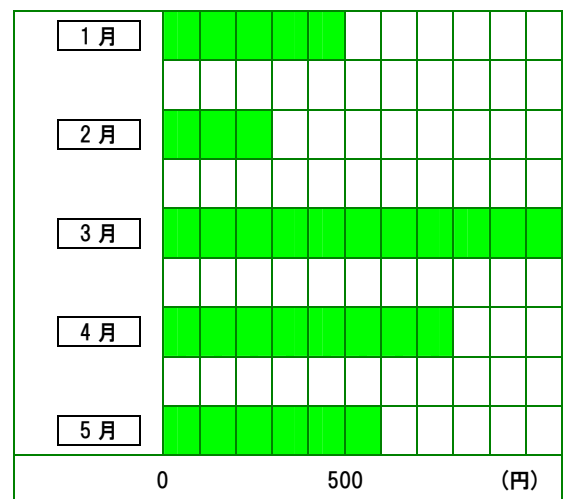
1目もりは、何こを表していますか？

**5こ**

たくや君は、つよし君より何こ多くひろいましたか？

**15こ**

## ④ なみさんがちょ金箱に入れた金がかく



一番多くちょ金箱に入れたのは、何月ですか？

**3月**

1目もりは、何円を表していますか？

**100円**

4月と5月のちょ金のちがいは、何円ですか？

**200円**

# 47 表とグラフ(3)

制限時間

20分

開始時間

■時■分

終了時間

■時■分

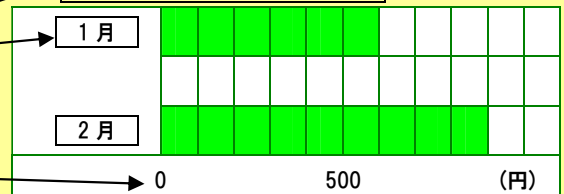
合格点

80点

ぼうグラフをかくときは、次のことに気をつけましょう。

- ① 何について調べたのか、表題(ひょうだい)をかく。
- ② くらべるしゅるいをかく。
- ③ 見やすいように、1目もりの大きさを決める。
- ④ 目もりが表す数と、目もりのたんいをかく。

ちよ金箱に入れた金がく

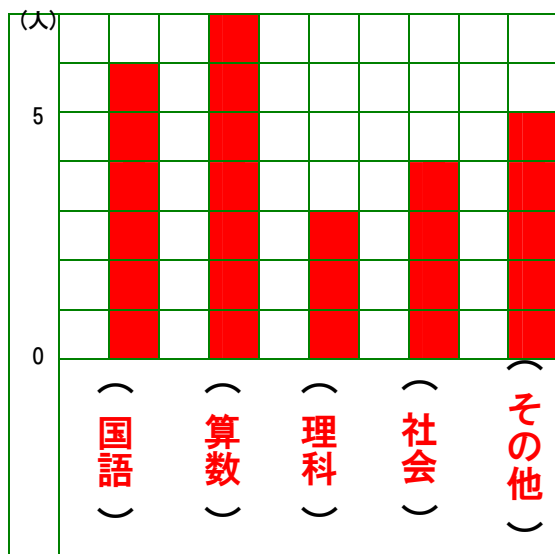


表を見て、ぼうグラフをかんせいさせましょう。(25点×4問=100点)

## ① すきな教科

国語	算数	理科	社会	その他
6人	7人	3人	4人	5人

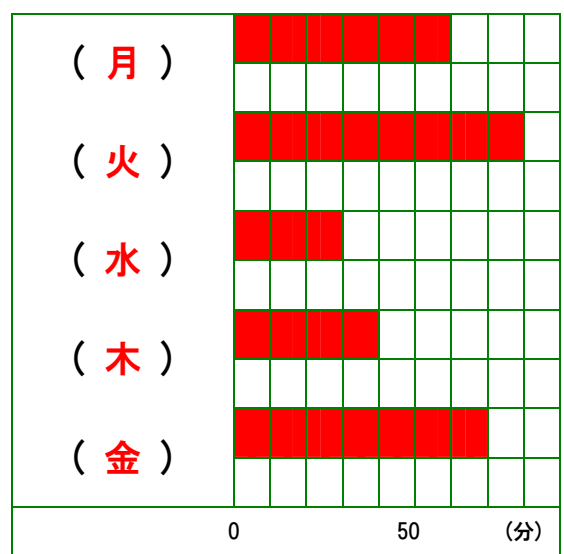
表題 ( すきな教科 )



## ② 家でべんきょうをした時間

月	火	水	木	金
60分	80分	30分	40分	70分

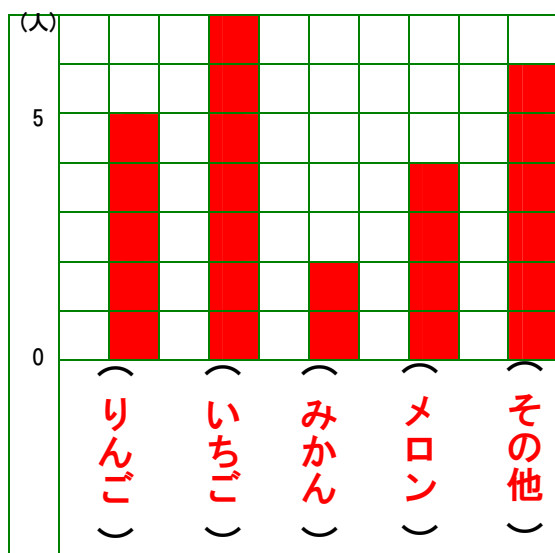
表題 ( 家でべんきょうをした時間 )



## ③ すきなくだもの

りんご	いちご	みかん	メロン	その他
5人	7人	2人	4人	6人

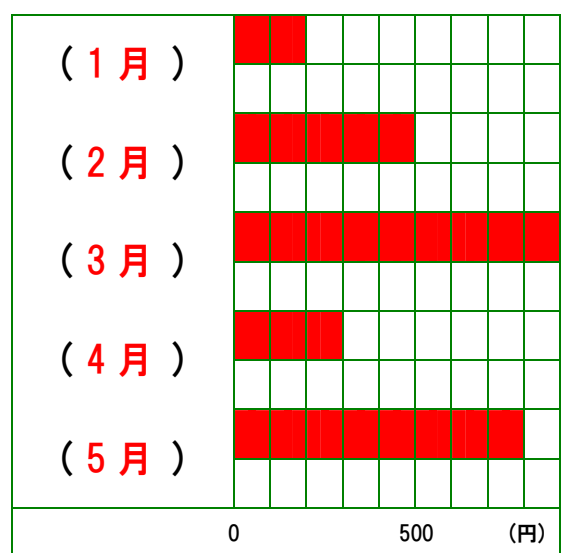
表題 ( すきなくだもの )



## ④ ちよ金箱に入れた金がく

1月	2月	3月	4月	5月
200円	500円	900円	300円	800円

表題 ( ちよ金箱に入れた金がく )



# 48 表とグラフ(4)

制限時間

20分

開始時間

■時■分

終了時間

■時■分

合格点

80点

表をまとめて、たてとよこの合計を出すと、全体のようによく分かります。

表を見て、問題に答えましょう。(25点×4問=100点)

## ① すきなスポーツ調べ (人)

	男子	女子	先生	合計
野球	12	4	4	20
サッカー	18	7	3	28
テニス	7	14	2	23
バスケ	9	16	2	27
バレー	4	10	1	15
合計	50	51	12	113

全体で一番人気のあるスポーツは、どれですか？

**サッカー**

女子に一番人気のあるスポーツは、どれですか？

**バスケ**

野球が好きな先生は、何人いますか？

**4人**

テニスが好きな男子は、何人いますか？

**7人**

バレーが好きな人の合計は、何人ですか？

**15人**

## ② 学校のけが調べ (人)

	9月	10月	11月	合計
すりきず	7	4	9	20
切りきず	1	6	8	15
ねんざ	0	2	1	3
だぼく	3	1	2	6
その他	2	4	5	11
合計	13	17	25	55

全体で一番多かったけがのしゅるいは、どれですか？

**すりきず**

10月に一番多かったけがのしゅるいは、どれですか？

**切りきず**

一番けがが多かった月は、何月ですか？

**11月**

11月にねんざをした人は、何人ですか？

**1人**

だぼくをした人の合計は、何人ですか？

**6人**

## ③ すきな教科調べ (人)

	4年	5年	6年	合計
国語	20	16	24	60
算数	25	15	22	62
理科	11	12	9	32
社会	9	18	14	41
その他	17	17	15	49
合計	82	78	84	244

全体で一番人気のある教科は、どれですか？

**算数**

5年生に一番人気のある教科は、どれですか？

**社会**

理科が好きな4年生は、何人いますか？

**11人**

国語が好きな6年生は、何人いますか？

**24人**

4年生と5年生と6年生を合わせると、何人いますか？

**244人**

## ④ けっせき調べ (人)

	1組	2組	3組	合計
9月	10	5	7	22
10月	8	9	10	27
11月	7	12	4	23
12月	16	19	11	46
1月	5	6	4	15
合計	46	51	36	133

けっせきした合計が一番多かったのは、何月ですか？

**12月**

けっせきした合計が一番少なかったのは、何組ですか？

**3組**

12月に1組でけっせきしたのは、何人ですか？

**16人**

1月にけっせきした人数の合計は、何人ですか？

**15人**

けっせきした人数が6人だったのは、何月の何組ですか？

**1月の2組**