

小学1年 算数マスター 改訂版(上)

章	番号	内容	日付	時間	点数	合否	ページ	解答
1	1	どちらが おおい	/	/30分	点		3	83
	2	なかまあつめ	/	/30分	点		4	84
	3	5までの かず①	/	/30分	点		5	85
	4	5までの かず②	/	/30分	点		6	86
2	5	10までの かず①	/	/30分	点		7	87
	6	10までの かず②	/	/30分	点		8	88
	7	なんばんめ①	/	/30分	点		9	89
	8	なんばんめ②	/	/30分	点		10	90
3	9	いくつと いくつ①	/	/30分	点		11	91
	10	いくつと いくつ②	/	/30分	点		12	92
	11	いくつと いくつ③	/	/30分	点		13	93
	12	かずの まとめ	/	/30分	点		14	94
4	13	あわせて いくつ①	/	/30分	点		15	95
	14	あわせて いくつ②	/	/30分	点		16	96
	15	ふえると いくつ①	/	/30分	点		17	97
	16	ふえると いくつ②	/	/30分	点		18	98
5	17	のこりは いくつ①	/	/30分	点		19	99
	18	のこりは いくつ②	/	/30分	点		20	100
	19	ちがいは いくつ①	/	/30分	点		21	101
	20	ちがいは いくつ②	/	/30分	点		22	102
6	21	どちらが ながい①	/	/30分	点		23	103
	22	どちらが ながい②	/	/30分	点		24	104
	23	どちらが ながい③	/	/30分	点		25	105
	24	どちらが ながい④	/	/30分	点		26	106
7	25	10より おおきい かず①	/	/30分	点		27	107
	26	10より おおきい かず②	/	/30分	点		28	108
	27	10より おおきい かず③	/	/30分	点		29	109
	28	10より おおきい かず④	/	/30分	点		30	110
8	29	なんじ なんじはん①	/	/30分	点		31	111
	30	なんじ なんじはん②	/	/30分	点		32	112
	31	かたちあそび①	/	/30分	点		33	113
	32	かたちあそび②	/	/30分	点		34	114
9	33	20までの せんつながぎ	/	/30分	点		35	115
	34	30までの せんつながぎ	/	/30分	点		36	116
	35	40までの せんつながぎ	/	/30分	点		37	117
	36	50までの せんつながぎ	/	/30分	点		38	118
10	37	1~2 しょうの まとめ	/	/30分	点		39	119
	38	3~4 しょうの まとめ	/	/30分	点		40	120
	39	5~6 しょうの まとめ	/	/30分	点		41	121
	40	7~8 しょうの まとめ	/	/30分	点		42	122

小学1年 算数マスター 改訂版 (下)

章	番号	内容	日付	時間	点数	合否	ページ	解答
11	41	3つの かずの けいさん①	/	/30分	点		43	123
	42	3つの かずの けいさん②	/	/30分	点		44	124
	43	3つの かずの けいさん③	/	/30分	点		45	125
	44	3つの かずの けいさん④	/	/30分	点		46	126
12	45	どちらが おおい①	/	/30分	点		47	127
	46	どちらが おおい②	/	/30分	点		48	128
	47	どちらが おおい③	/	/30分	点		49	129
	48	どちらが おおい④	/	/30分	点		50	130
13	49	たしざん①	/	/30分	点		51	131
	50	たしざん②	/	/30分	点		52	132
	51	たしざん③	/	/30分	点		53	133
	52	たしざん④	/	/30分	点		54	134
14	53	ひきざん①	/	/30分	点		55	135
	54	ひきざん②	/	/30分	点		56	136
	55	ひきざん③	/	/30分	点		57	137
	56	ひきざん④	/	/30分	点		58	138
15	57	おおきい かず①	/	/30分	点		59	139
	58	おおきい かず②	/	/30分	点		60	140
	59	おおきい かず③	/	/30分	点		61	141
	60	おおきい かず④	/	/30分	点		62	142
16	61	どちらが ひろい①	/	/30分	点		63	143
	62	どちらが ひろい②	/	/30分	点		64	144
	63	なんじなんぷん①	/	/30分	点		65	145
	64	なんじなんぷん②	/	/30分	点		66	146
17	65	ずで かんがえよう①	/	/30分	点		67	147
	66	ずで かんがえよう②	/	/30分	点		68	148
	67	ずで かんがえよう③	/	/30分	点		69	149
	68	ずで かんがえよう④	/	/30分	点		70	150
18	69	けいさん ぴらみっど①	/	/30分	点		71	151
	70	けいさん ぴらみっど②	/	/30分	点		72	152
	71	かたちづくり①	/	/30分	点		73	153
	72	かたちづくり②	/	/30分	点		74	154
19	73	60までの せんつなぎ	/	/30分	点		75	155
	74	70までの せんつなぎ	/	/30分	点		76	156
	75	80までの せんつなぎ	/	/30分	点		77	157
	76	100までの せんつなぎ	/	/30分	点		78	158
20	77	11~12 しょうの まとめ	/	/30分	点		79	159
	78	13~14 しょうの まとめ	/	/30分	点		80	160
	79	15~16 しょうの まとめ	/	/30分	点		81	161
	80	17~18 しょうの まとめ	/	/30分	点		82	162

17 のこりは いくつ①

章
5

制限時間
20分

合格点
80点

点

へる かずの けいさんを ひきざんと いい、-(ひく) という きごうで かきます。

のこりが いくつに なるか、しきに かいて きたえましょう。(7点×10問=70点)

① 7にんの うち 3にん かえた。



- = きたえ にん

② 5この うち 2こ たべた。



- = きたえ こ

③ 9この うち 5こ たべた。



- = きたえ こ

④ 7まいの うち 1まい つかった。



- = きたえ まい

⑤ 4ひきの うち 2ひき にがした。




- = きたえ ひき

⑥ 10この うち 3こ われた。



- = きたえ こ

⑦ 6この うち 1こ たべた。



- = きたえ こ

⑧ 9この うち 8こ たべた。



- = きたえ こ

⑨ 8わの うち 5わ とんでいった。



- = きたえ わ

⑩ 6だいの うち 4だい うれた。



- = きたえ だい

しきに かいて きたえましょう。(5点×6問=30点)

① たまごやきが 5こ あります。

4こ たべると、のこりは なんこですか。



② きゅうりが 8こ あります。

2こ たべると のこりは なんこですか。



③ たまごが 10こ あります。

4こ つかうと のこりは なんこですか。



④ ほそまきが 6こ あります。

3こ たべると のこりは なんこですか。



⑤ ちゅうがくせい が 5にん います。

ひとり かえると、のこりは なんにんですか。



⑥ いちごが 9こ あります。

2こ たべると のこりは なんこですか。



18 のこりは いくつ②

章
5

制限時間
20分

合格点
80点

点

ひきざんも、おはじきを つかって かんがえると、わかりやすく なります。

●を かぞえて、ひきざんを しましょう。(2点×15問=30点)

① ●●○○○ 5-3=	② ●●●●○○ 6-2=	③ ●●●●●●●○○○ 10-2=
④ ●●●○○○○○○○ 9-6=	⑤ ●●●●●○○○○○○○ 10-5=	⑥ ●○○○○○○○○○ 8-7=
⑦ ●○○○ 4-3=	⑧ ●●○○○○○ 7-5=	⑨ ●●●●○○○○○○○ 10-6=
⑩ ●●●○○○ 6-3=	⑪ ●○○ 3-2=	⑫ ●●○○○○○○○○○ 9-7=
⑬ ●○○○○○○○ 7-6=	⑭ ●●●●○○○○○ 8-4=	⑮ ●○○○○○○○○○○○ 10-9=

0を ひく ひきざんは、かずが 変わりません。 7-0=7

おなじ かずの ひきざんは、こたえが 0に なります。 9-9=0

●を かぞえて、ひきざんを しましょう。(2点×5問=10点)

れ ●●● い 3-0=3	① ●●●●● 5-0=	② ●●●●●●● 6-0=
③ ○○○○ 4-4=	④ ○○○○○○○○ 7-7=	⑤ ○○○○○○○○○○ 8-8=

ひきざんを しましょう。(2点×30問=60点)

① 4-1=	② 6-5=	③ 7-4=	④ 10-7=	⑤ 9-1=
⑥ 3-1=	⑦ 8-3=	⑧ 8-1=	⑨ 8-4=	⑩ 10-8=
⑪ 10-9=	⑫ 4-2=	⑬ 10-4=	⑭ 8-6=	⑮ 9-3=
⑯ 2-1=	⑰ 7-2=	⑱ 9-4=	⑲ 10-1=	⑳ 6-1=
㉑ 9-0=	㉒ 2-0=	㉓ 10-0=	㉔ 8-0=	㉕ 1-0=
㉖ 1-1=	㉗ 5-5=	㉘ 10-10=	㉙ 2-2=	㉚ 6-6=

19 ちがいはいくつ①

章
5

制限時間
20分


合格点
80点


点

おおきい かずから ちいさい かずを ひくと、どちらが いくつ おおいか わかります。

どちらが いくつ おおいか こたえましょう。(①~⑤12点×5問=60点、⑥⑦20点×2問=40点)


①


おとこのこ 

おんなのこ 

- = こたえ が にん おおい。


②


いぬ 

ねこ 

- = こたえ が ひき おおい。


③


じてんしゃ 

くるま 

- = こたえ が だい おおい。


④


とんぼ 

ちょう 

- = こたえ が ひき おおい。


⑤

たんぽぽ 

ひまわり 


- = こたえ が ほん おおい。

⑥

りんごと みかん 

- = こたえ が こ おおい。

⑦

のりと はさみ 

- = こたえ が こ おおい。

20 ちがいはいくつ②

章
5



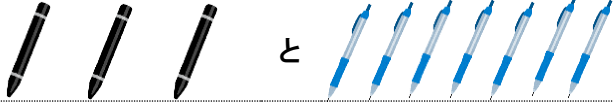


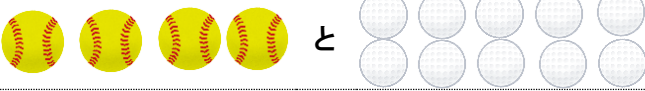
制限時間
20分

合格点
80点


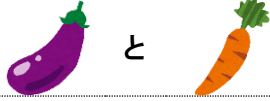
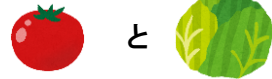




点

おおきい かずから ちいさい かずを ひくと、かずの ちがいが わかります。

ちがいは いくつか、しきに かいて こたえましょう。(6点×6問=36点)

<p>①  と</p> <p><input type="text"/> - <input type="text"/> = <input type="text"/> こたえ <input type="text"/> ひき</p>	<p>②  と</p> <p><input type="text"/> - <input type="text"/> = <input type="text"/> こたえ <input type="text"/> ほん</p>
<p>③  と</p> <p><input type="text"/> - <input type="text"/> = <input type="text"/> こたえ <input type="text"/> ほん</p>	<p>④  と</p> <p><input type="text"/> - <input type="text"/> = <input type="text"/> こたえ <input type="text"/> ひき</p>
<p>⑤  と</p> <p><input type="text"/> - <input type="text"/> = <input type="text"/> こたえ <input type="text"/> こ</p>	<p>⑥  と</p> <p><input type="text"/> - <input type="text"/> = <input type="text"/> こたえ <input type="text"/> こ</p>

えをみて、ちがいを こたえましょう。(6点×6問=36点)

	
<p>①  の ちがい</p> <p><input type="text"/> - <input type="text"/> = <input type="text"/> こたえ <input type="text"/> こ</p>	<p>②  の ちがい</p> <p><input type="text"/> - <input type="text"/> = <input type="text"/> こたえ <input type="text"/> こ</p>
<p>③  の ちがい</p> <p><input type="text"/> - <input type="text"/> = <input type="text"/> こたえ <input type="text"/> こ</p>	<p>④  の ちがい</p> <p><input type="text"/> - <input type="text"/> = <input type="text"/> こたえ <input type="text"/> こ</p>
<p>⑤  の ちがい</p> <p><input type="text"/> - <input type="text"/> = <input type="text"/> こたえ <input type="text"/> こ</p>	<p>⑥  の ちがい</p> <p><input type="text"/> - <input type="text"/> = <input type="text"/> こたえ <input type="text"/> こ</p>

しきに かいて こたえましょう。(7点×4問=28点)

<p>① 1ねんせいが5にん、2ねんせいが8にん います。 ちがいは なんにん ですか。</p>	
<p>② くりが6こ、かきが1こ あります。 ちがいは なんこ ですか。</p>	
<p>③ うまが2とう、うしが9とう います。 ちがいは なんと ですか。</p>	
<p>④ あさがおが8ほん、ひまわりが4ほん あります。 ちがいは なんほん ですか。</p>	

29 なんじ なんじはん①

章
8

制限時間
20分

合格点
80点

点

ながい はりが 12 のとき、ちょうど「なんじ」になります。

とけいをみて、なんじか かきましょう。(3点×12問=36点)

みじかい はりを かきましょう。(3点×12問=36点)

9じ	12じ	5じ	7じ	1じ	10じ
8じ	6じ	4じ	2じ	11じ	3じ

もんだいに こたえましょう。(7点×4問=28点)

	あ	い	う	え	お	か
①	あは なんじ ですか。					
②	いは なんじ ですか。					
③	4じは どれですか。		<input type="text"/>			
④	11じは どれですか。		<input type="text"/>			

31 かたちあそび①

章
8

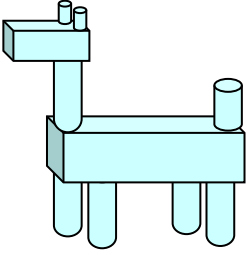
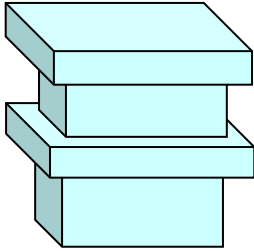
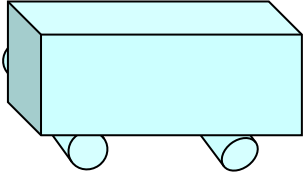
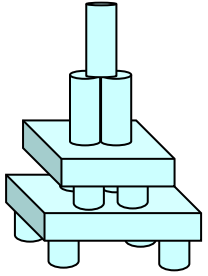




制限時間
20分

合格点
80点


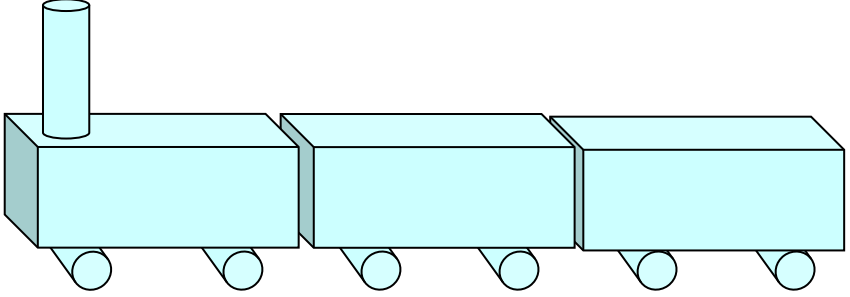
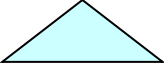


点

かたちを あわせると、いろいろな ものを つくる ことができます。

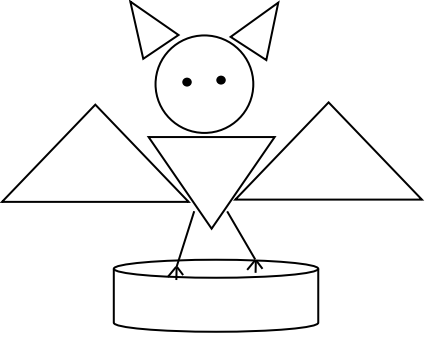


なにを つくったのか、せんで むすびましょう。(5点×4問=20点)

			
・	・	・	・
・	・	・	・
			

























つかった かたちには ○、つかって いない かたちには ×を かきましょう。(5点×4問=20点)

①  ()	
②  ()	
③  ()	
④  ()	

きめられた かたちだけ いろを めりましょう。(10点×3問=30点)

① さんかく 	② まる 	③ しかく 
---	---	--

なかまに はいらない かたちを、○で かこみましょう。(5点×6問=30点)

①    	②    
③    	④    
⑤    	⑥    

32 かたちあそび②

章
8

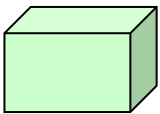
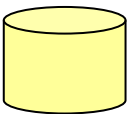

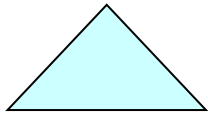
制限時間
20分





合格点
80点

点

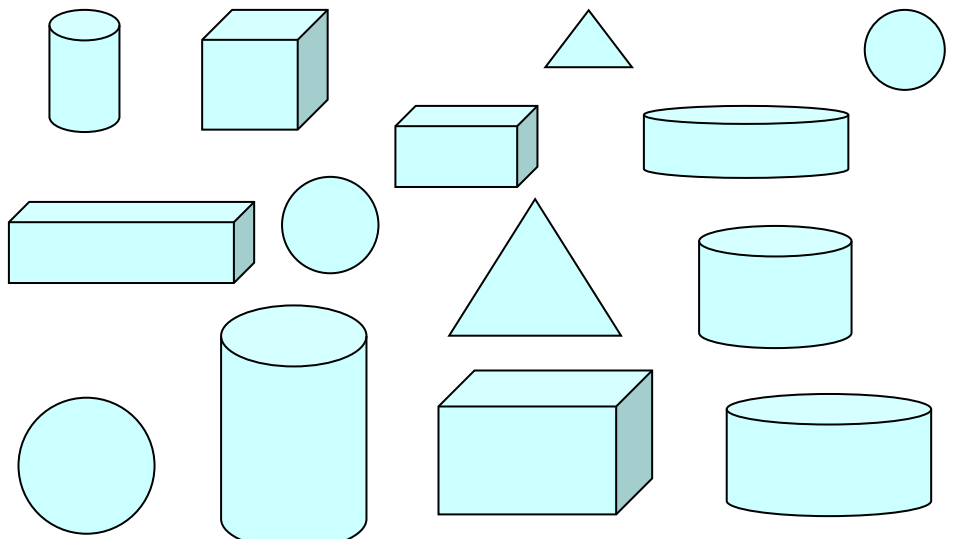
はこの かたち、つつの かたち、ぼおるの かたち、さんかくの かたち などが あります。

に いて いる かたちを、せんで むすびましよう。(5点×4問=20点)



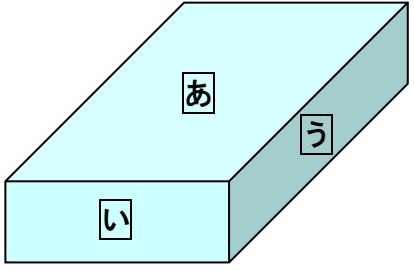


はこの かたち 	つつの かたち 	ぼおるの かたち 	さんかくの かたち 
--	--	--	--

			
---	---	--	---

つぎの かたちが いくつ あるか かきましよう。(10点×4問=40点)

① はこの かたち ()こ	
② つつの かたち ()こ	
③ ぼおるの かたち ()こ	
④ さんかくの かたち ()こ	

どの かたちを うつした ものか、きごうを かきましよう。(10点×4問=40点)

① 	② 	
③ 	④ 	

49 たしざん①

章
13



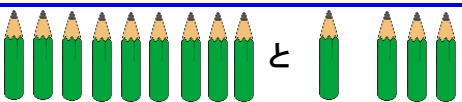
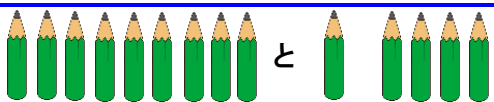
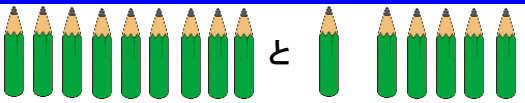

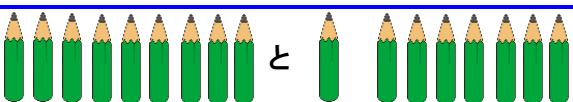
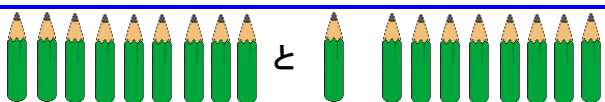
制限時間
20分

合格点
80点







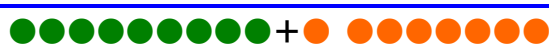

点

9+6は、9+1+5にわけて、10+5=15になります。

あわせていくつになるか、しきにかきましょう。(5点×8問=40点)

①  $9 + \square = \square$	②  $9 + \square = \square$
③  $9 + \square = \square$	④  $9 + \square = \square$
⑤  $9 + \square = \square$	⑥  $9 + \square = \square$
⑦  $9 + \square = \square$	⑧  $9 + \square = \square$

●をかぞえて、たしざんをしましょう。(5点×8問=40点)

①  $9 + 2 =$	②  $9 + 3 =$
③  $9 + 4 =$	④  $9 + 5 =$
⑤  $9 + 6 =$	⑥  $9 + 7 =$
⑦  $9 + 8 =$	⑧  $9 + 9 =$

しきにかいてこたえましょう。(5点×4問=20点)

① いぬが9ひき、ねこが5ひきいます。 あわせてなんびきですか。	
② おとこのこが9にん、おんなのこが4にんいます。 あわせてなんにんですか。	
③ はがきが9まい、ふうとうが8まいあります。 あわせてなんまいですか。	
④ りんごが9こ、なしが3こあります。 あわせてなんこですか。	

50 たしざん②

章
13




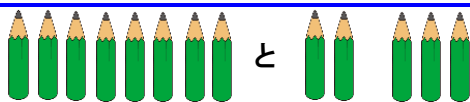

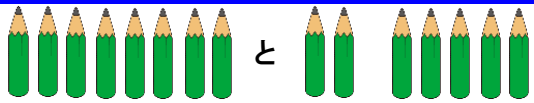
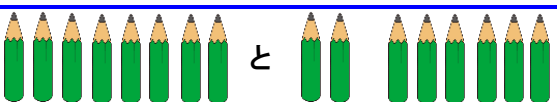
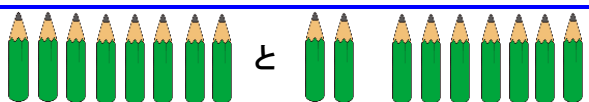
制限時間
20分

合格点
80点









点

8+6は、8+2+4にわけて、10+4=14になります。





あわせていくつになるか、しきにかきましょう。(5点×8問=40点)

①  $8 + \square = \square$	②  $8 + \square = \square$
③  $8 + \square = \square$	④  $8 + \square = \square$
⑤  $8 + \square = \square$	⑥  $8 + \square = \square$
⑦  $8 + \square = \square$	⑧  $8 + \square = \square$

●をかぞえて、たしざんをしましょう。(5点×8問=40点)

①  $8 + 2 =$	②  $8 + 3 =$
③  $8 + 4 =$	④  $8 + 5 =$
⑤  $8 + 6 =$	⑥  $8 + 7 =$
⑦  $8 + 8 =$	⑧  $8 + 9 =$

しきにかいてこたえましょう。(5点×4問=20点)

① めだまやきが8こ、たまごやきが5こあります。 あわせてなんこですか。	
② おとこのこが8にん、おんなのこが9にんいます。 あわせてなんにんですか。	
③ みかんが8こ、ももが3こあります。 あわせてなんこですか。	
④ くるまが8だい、じてんしゃが8だいあります。 あわせてなんだいですか。	

51 たしざん③

章
13

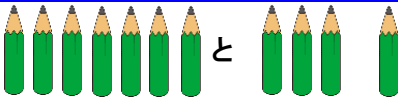
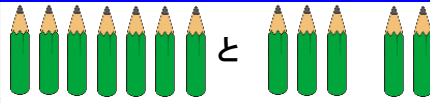
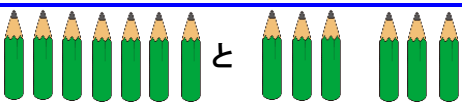
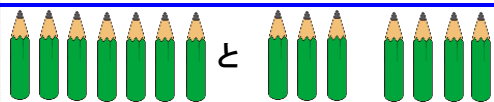
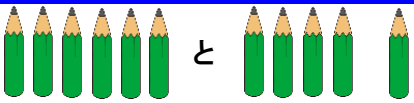
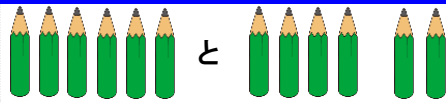
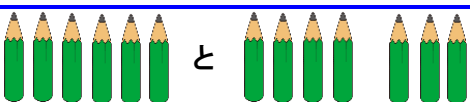
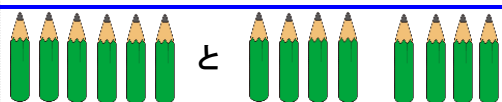
制限時間
20分

合格点
80点









点

7+6は、7+3+3にわけて、10+3=13になります。

あわせていくつになるか、しきにかきましょう。(5点×8問=40点)

①  $7 + \square = \square$	②  $7 + \square = \square$
③  $7 + \square = \square$	④  $7 + \square = \square$
⑤  $6 + \square = \square$	⑥  $6 + \square = \square$
⑦  $6 + \square = \square$	⑧  $6 + \square = \square$

●をかぞえて、たしざんをしましょう。(5点×8問=40点)

①  $7 + 6 =$	②  $7 + 7 =$
③  $7 + 8 =$	④  $7 + 9 =$
⑤  $6 + 6 =$	⑥  $6 + 7 =$
⑦  $6 + 8 =$	⑧  $6 + 9 =$

しきにかいてこたえましょう。(4点×3問=12点)

① 1ねんせいが7にんいました。 さらに5にんくると、ぜんぶでなんにんですか。	
② くりが7こありました。 さらに4こひろうと、ぜんぶでなんこですか。	
③ うしが6とういました。 さらに5とうくると、ぜんぶでなんとうですか。	
④ あさがおが6ぽんさきました。 さらに9ぽんさくと、ぜんぶでなんぽんですか。	

52 たしざん④

章
13









制限時間
20分

合格点
80点





点

5+6は、5+5+1にわけて、10+1=11になります。

あわせていくつになるか、しきに かきましょう。(3点×4問=12点)

<p>①  と </p> <p>$5 + \square = \square$</p>	<p>②  と </p> <p>$5 + \square = \square$</p>
<p>③  と </p> <p>$5 + \square = \square$</p>	<p>④  と </p> <p>$5 + \square = \square$</p>

●をかぞえて、たしざんを しましょう。(3点×4問=12点)

<p>① </p> <p>$5 + 6 =$</p>	<p>② </p> <p>$5 + 7 =$</p>
<p>③ </p> <p>$5 + 8 =$</p>	<p>④ </p> <p>$5 + 9 =$</p>

しきに かいて こたえましょう。(4点×4問=16点)

<p>① ねこが 5ひき いました。 6ひき うまれると、ぜんぶで なんびき ですか。</p>	
<p>② きょうしつに 5にん いました。 さらに 7にん くと、ぜんぶで なんにん ですか。</p>	
<p>③ どんぐりが 5こ ありました。 さらに 8こ ひろうと、ぜんぶで なんこ ですか。</p>	
<p>④ おりがみが 5まい ありました。 9まい もらうと、ぜんぶで なんまい ですか。</p>	

たしざんを しましょう。(2点×30問=60点)

① $9+3=$	② $7+6=$	③ $8+6=$	④ $9+5=$	⑤ $6+6=$
⑥ $7+7=$	⑦ $9+4=$	⑧ $5+8=$	⑨ $8+9=$	⑩ $5+9=$
⑪ $8+4=$	⑫ $5+7=$	⑬ $7+9=$	⑭ $6+7=$	⑮ $9+6=$
⑯ $6+5=$	⑰ $9+2=$	⑱ $8+8=$	⑲ $7+5=$	⑳ $6+9=$
㉑ $7+8=$	㉒ $8+3=$	㉓ $9+8=$	㉔ $8+5=$	㉕ $5+6=$
㉖ $8+7=$	㉗ $7+4=$	㉘ $6+8=$	㉙ $9+9=$	㉚ $9+7=$

53 ひきざん①

章
14

制限時間
20分

合格点
80点

点

14-9 は、10+4-9 に わけて 10-9=1、1+4=5 に なります。

のこりが いくつに なるか、しきに かきましょう。(4点×10問=40点)

①		9ほんへる → <input type="text"/> - <input type="text"/> = <input type="text"/>
②		9ほんへる → <input type="text"/> - <input type="text"/> = <input type="text"/>
③		9ほんへる → <input type="text"/> - <input type="text"/> = <input type="text"/>
④		9ほんへる → <input type="text"/> - <input type="text"/> = <input type="text"/>
⑤		9ほんへる → <input type="text"/> - <input type="text"/> = <input type="text"/>
⑥		9ほんへる → <input type="text"/> - <input type="text"/> = <input type="text"/>
⑦		9ほんへる → <input type="text"/> - <input type="text"/> = <input type="text"/>
⑧		9ほんへる → <input type="text"/> - <input type="text"/> = <input type="text"/>

●をかぞえて、ひきざんを しましょう。(5点×8問=40点)

①	11-9=	②	12-9=
③	13-9=	④	14-9=
⑤	15-9=	⑥	16-9=
⑦	17-9=	⑧	18-9=

しきに かけて こたえましょう。(5点×4問=20点)

① 14ほんのうち、9ほんつかいました。 のこりは、なんぼんですか。	
② 12このうち、9こたべました。 のこりは、なんこですか。	
③ 15にんうち、9にんおりました。 のこりは、なんにんですか。	
④ 17まいのうち、9まいくばりました。 のこりは、なんまいですか。	

54 ひきざん②

章
14

制限時間
20分

合格点
80点

点

14-8 は、10+4-8 に わけて 10-8=2、2+4=6 に なります。

のこりが いくつに なるか、しきに かきましょう。(4点×10問=40点)

①		8 ぽん へる → <input type="text"/> - <input type="text"/> = <input type="text"/>
②		8 ぽん へる → <input type="text"/> - <input type="text"/> = <input type="text"/>
③		8 ぽん へる → <input type="text"/> - <input type="text"/> = <input type="text"/>
④		8 ぽん へる → <input type="text"/> - <input type="text"/> = <input type="text"/>
⑤		8 ぽん へる → <input type="text"/> - <input type="text"/> = <input type="text"/>
⑥		8 ぽん へる → <input type="text"/> - <input type="text"/> = <input type="text"/>
⑦		8 ぽん へる → <input type="text"/> - <input type="text"/> = <input type="text"/>
⑧		8 ぽん へる → <input type="text"/> - <input type="text"/> = <input type="text"/>

●をかぞえて、ひきざんを しましょう。(5点×8問=40点)

①	10-8=	②	11-8=
③	12-8=	④	13-8=
⑤	14-8=	⑥	15-8=
⑦	16-8=	⑧	17-8=

しきに かけて こたえましょう。(5点×4問=20点)

① たまごが 16 こ あります。 8 こ つかうと のこりは なんこ ですか。	
② ちゅうがくせい が 13 にん います。 8 人 かえると、のこりは なんにん ですか。	
③ あめが 17 こ ありました。 8 こ たべると、のこりは なんこ ですか。	
④ ねこが 11 ぴき いました。 8 ぴき いなくなると、のこりは なんぴき ですか。	

55 ひきざん③

章
14

制限時間
20分

合格点
80点

点

14-7 は、10+4-7 に わけて 10-7=3、3+4=7 に なります。

のこりがいくつになるか、しきに かきましょう。(4点×10問=40点)

①		7ほんへる	→	<input type="text"/>	-	<input type="text"/>	=	<input type="text"/>
②		7ほんへる	→	<input type="text"/>	-	<input type="text"/>	=	<input type="text"/>
③		7ほんへる	→	<input type="text"/>	-	<input type="text"/>	=	<input type="text"/>
④		7ほんへる	→	<input type="text"/>	-	<input type="text"/>	=	<input type="text"/>
⑤		6ぽんへる	→	<input type="text"/>	-	<input type="text"/>	=	<input type="text"/>
⑥		6ぽんへる	→	<input type="text"/>	-	<input type="text"/>	=	<input type="text"/>
⑦		6ぽんへる	→	<input type="text"/>	-	<input type="text"/>	=	<input type="text"/>
⑧		6ぽんへる	→	<input type="text"/>	-	<input type="text"/>	=	<input type="text"/>

●をかぞえて、ひきざんをしましょう。(5点×8問=40点)

①	11-7=	②	12-7=
③	13-7=	④	14-7=
⑤	11-6=	⑥	12-6=
⑦	13-6=	⑧	14-6=

しきに かいて こたえましょう。(5点×4問=20点)

①	すずめが 16 わ、はとが 7 わ います。 ちがいは なんわ ですか。	
②	じょしが 15 にん、だんしが 7 にん います。 ちがいは なんにん ですか。	
③	なしが 15 こ、ぶどうが 6 こ あります。 ちがいは なんこ ですか。	
④	きってが 11 まい、はがきが 6 まい あります。 ちがいは なんまい ですか。	

56 ひきざん④

章
14





制限時間
20分

合格点
80点





点

14-5 は、10+4-5 に わけて 10-5=5、5+4=9 に なります。





のこりが いくつに なるか、しきに かきましょう。(3点×4問=12点)

①		5ほんへる → <input type="text"/> - <input type="text"/> = <input type="text"/>
②		5ほんへる → <input type="text"/> - <input type="text"/> = <input type="text"/>
③		5ほんへる → <input type="text"/> - <input type="text"/> = <input type="text"/>
④		5ほんへる → <input type="text"/> - <input type="text"/> = <input type="text"/>

●をかぞえて、ひきざんを しましょう。(3点×4問=12点)

①		11-5=	②		12-5=
③		13-5=	④		14-5=

しきに かいて こたえましょう。(4点×4問=16点)

①	おにぎりが 11 こ、からあげが 5 こ あります。 ちがいは なんこ ですか。	
②	1ねんせいが 13 にん、2ねんせいが 5 にん います。 ちがいは なんにん ですか。	
③	いちごが 12 こ、すいかが 5 こ あります。 ちがいは なんこ ですか。	
④	くぎが 14 ほん、ねじが 5 ほん あります。 ちがいは なんほん ですか。	

ひきざんを しましょう。(2点×30問=60点)

①	14-9=	②	11-6=	③	18-9=	④	12-8=	⑤	14-5=
⑥	16-7=	⑦	12-5=	⑧	11-7=	⑨	15-9=	⑩	16-8=
⑪	11-5=	⑫	11-9=	⑬	14-7=	⑭	17-8=	⑮	15-6=
⑯	13-8=	⑰	13-6=	⑱	13-5=	⑲	17-9=	⑳	15-8=
㉑	16-9=	㉒	14-8=	㉓	14-6=	㉔	13-7=	㉕	13-9=
㉖	12-7=	㉗	11-8=	㉘	12-9=	㉙	12-6=	㉚	15-7=

17 のこりは いくつ①

章
5



制限時間
20分

合格点
80点

点

へる かずの けいさんを ひきざんと いい、-(ひく) という きごうで かきます。

のこりが いくつに なるか、しきに かいて こたえましょう。(7点×10問=70点)

<p>① 7にんの うち 3にん かえた。</p>  <p>$7 - 3 = 4$ こたえ 4 にん</p>	<p>② 5この うち 2こ たべた。</p>  <p>$5 - 2 = 3$ こたえ 3 こ</p>
<p>③ 9この うち 5こ たべた。</p>  <p>$9 - 5 = 4$ こたえ 4 こ</p>	<p>④ 7まいの うち 1まい つかった。</p>  <p>$7 - 1 = 6$ こたえ 6 まい</p>
<p>⑤ 4ひきの うち 2ひき にがした。</p>  <p>$4 - 2 = 2$ こたえ 2 ひき</p>	<p>⑥ 10この うち 3こ われた。</p>  <p>$10 - 3 = 7$ こたえ 7 こ</p>
<p>⑦ 6この うち 1こ たべた。</p>  <p>$6 - 1 = 5$ こたえ 5 こ</p>	<p>⑧ 9この うち 8こ たべた。</p>  <p>$9 - 8 = 1$ こたえ 1 こ</p>
<p>⑨ 8わの うち 5わ とんでいった。</p>  <p>$8 - 5 = 3$ こたえ 3 わ</p>	<p>⑩ 6だいの うち 4だい うれた。</p>  <p>$6 - 4 = 2$ こたえ 2 だい</p>

しきに かいて こたえましょう。(5点×6問=30点)

<p>① たまごやきが 5こ あります。 4こ たべると、のこりは なんこですか。</p>	 <p>$5 - 4 = 1$ (こ)</p>
<p>② きゅうりが 8こ あります。 2こ たべると のこりは なんこですか。</p>	 <p>$8 - 2 = 6$ (こ)</p>
<p>③ たまごが 10こ あります。 4こ つかうと のこりは なんこですか。</p>	 <p>$10 - 4 = 6$ (こ)</p>
<p>④ ほそまきが 6こ あります。 3こ たべると のこりは なんこですか。</p>	 <p>$6 - 3 = 3$ (こ)</p>
<p>⑤ ちゅうがくせい が 5にん います。 ひとり かえると、のこりは なんにんですか。</p>	 <p>$5 - 1 = 4$ (にん)</p>
<p>⑥ いちごが 9こ あります。 2こ たべると のこりは なんこですか。</p>	 <p>$9 - 2 = 7$ (こ)</p>

18 のこりは いくつ②

章
5

制限時間
20分

合格点
80点

点

ひきざんも、おはじきを つかって かんがえると、わかりやすく なります。

●をかぞえて、ひきざんを しましょう。(2点×15問=30点)

① ●●○○○ $5-3=2$	② ●●●●○○ $6-2=4$	③ ●●●●●●●○○○ $10-2=8$
④ ●●●○○○○○○○ $9-6=3$	⑤ ●●●●●○○○○○○○ $10-5=5$	⑥ ●○○○○○○○○○ $8-7=1$
⑦ ●○○○ $4-3=1$	⑧ ●●○○○○○ $7-5=2$	⑨ ●●●●○○○○○○○ $10-6=4$
⑩ ●●●○○○ $6-3=3$	⑪ ●○○○ $3-2=1$	⑫ ●●○○○○○○○○○ $9-7=2$
⑬ ●○○○○○○○ $7-6=1$	⑭ ●●●●○○○○○ $8-4=4$	⑮ ●○○○○○○○○○○○ $10-9=1$

0をひくひきざんは、かずがかわりません。 $7-0=7$

おなじかずのひきざんは、こたえが0になります。 $9-9=0$

●をかぞえて、ひきざんを しましょう。(2点×5問=10点)

れ ●●● い $3-0=3$	① ●●●●● $5-0=5$	② ●●●●●●● $6-0=6$
③ ○○○○ $4-4=0$	④ ○○○○○○○○ $7-7=0$	⑤ ○○○○○○○○○○ $8-8=0$

ひきざんを しましょう。(2点×30問=60点)

① $4-1=3$	② $6-5=1$	③ $7-4=3$	④ $10-7=3$	⑤ $9-1=8$
⑥ $3-1=2$	⑦ $8-3=5$	⑧ $8-1=7$	⑨ $8-4=4$	⑩ $10-8=2$
⑪ $10-9=1$	⑫ $4-2=2$	⑬ $10-4=6$	⑭ $8-6=2$	⑮ $9-3=6$
⑯ $2-1=1$	⑰ $7-2=5$	⑱ $9-4=5$	⑲ $10-1=9$	⑳ $6-1=5$
㉑ $9-0=9$	㉒ $2-0=2$	㉓ $10-0=10$	㉔ $8-0=8$	㉕ $1-0=1$
㉖ $1-1=0$	㉗ $5-5=0$	㉘ $10-10=0$	㉙ $2-2=0$	㉚ $6-6=0$

19 ちがいはいくつ①

章
5

制限時間
20分


合格点
80点


点

おおきい かずから ちいさい かずを ひくと、どちらが いくつ おおいか わかります。

どちらが いくつ おおいか こたえましょう。(①~⑤12点×5問=60点、⑥⑦20点×2問=40点)


①


おとこのこ 

おんなのこ 

$9 - 6 = 3$ こたえ **おんなのこ** が **3** にん おおい。


②


いぬ 

ねこ 

$8 - 4 = 4$ こたえ **いぬ** が **4** ひき おおい。


③


じてんしゃ 

くるま 

$7 - 5 = 2$ こたえ **くるま** が **2** だい おおい。


④


とんぼ 

ちょう 

$9 - 4 = 5$ こたえ **とんぼ** が **5** ひき おおい。


⑤

たんぽぽ 

ひまわり 


$8 - 6 = 2$ こたえ **ひまわり** が **2** ほん おおい。

⑥

りんごと みかん 

$9 - 4 = 5$ こたえ **りんご** が **5** こ おおい。

⑦

のりと はさみ 

$7 - 6 = 1$ こたえ **はさみ** が **1** こ おおい。

20 ちがいはいくつ②

章
5



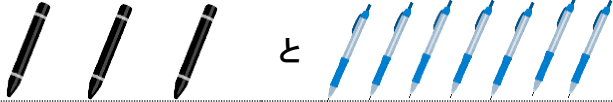


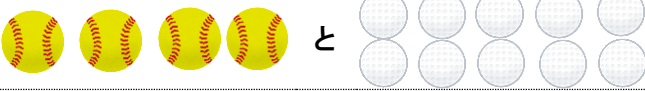
制限時間
20分

合格点
80点


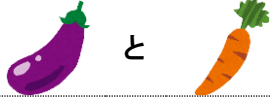





点

おおきい かずから ちいさい かずを ひくと、かずの ちがいが わかります。

ちがいは いくつか、しきに かいて こたえましょう。(6点×6問=36点)

<p>①  と</p> <p>$6 - 4 = 2$ こたえ 2 ひき</p>	<p>②  と</p> <p>$5 - 3 = 2$ こたえ 2 ほん</p>
<p>③  と</p> <p>$7 - 3 = 4$ こたえ 4 ほん</p>	<p>④  と</p> <p>$5 - 1 = 4$ こたえ 4 ひき</p>
<p>⑤  と</p> <p>$6 - 5 = 1$ こたえ 1 こ</p>	<p>⑥  と</p> <p>$10 - 4 = 6$ こたえ 6 こ</p>

えをみて、ちがいを こたえましょう。(6点×6問=36点)

	
<p>①  の ちがい</p> <p>$6 - 5 = 1$ こたえ 1 こ</p>	<p>②  の ちがい</p> <p>$10 - 2 = 8$ こたえ 8 こ</p>
<p>③  の ちがい</p> <p>$5 - 2 = 3$ こたえ 3 こ</p>	<p>④  の ちがい</p> <p>$10 - 6 = 4$ こたえ 4 こ</p>
<p>⑤  の ちがい</p> <p>$6 - 2 = 4$ こたえ 4 こ</p>	<p>⑥  の ちがい</p> <p>$10 - 5 = 5$ こたえ 5 こ</p>

しきに かいて こたえましょう。(7点×4問=28点)

<p>① 1ねんせいが5にん、2ねんせいが8にん います。 ちがいは なんにん ですか。</p>	 <p>$8 - 5 = 3$ (にん)</p>
<p>② くりが6こ、かきが1こ あります。 ちがいは なんこ ですか。</p>	 <p>$6 - 1 = 5$ (こ)</p>
<p>③ うまが2とう、うしが9とう います。 ちがいは なんとう ですか。</p>	 <p>$9 - 2 = 7$ (とう)</p>
<p>④ あさがおが8ほん、ひまわりが4ほん あります。 ちがいは なんほん ですか。</p>	 <p>$8 - 4 = 4$ (ほん)</p>

29 なんじ なんじはん①

章
8

制限時間
20分

合格点
80点

点

ながい はりが 12 のとき、ちょうど「なんじ」になります。

とけいをみて、なんじかかきましょう。(3点×12問=36点)

2じ	10じ	3じ	8じ	6じ	7じ
4じ	11じ	1じ	5じ	12じ	9じ

みじかい はりをかきましょう。(3点×12問=36点)

9じ	12じ	5じ	7じ	1じ	10じ
8じ	6じ	4じ	2じ	11じ	3じ

もんだいにこたえましょう。(7点×4問=28点)

	あ	い	う	え	お	か
①	あはなんじですか。	8じ	②	いはなんじですか。	5じ	
③	4じはどれですか。	か	④	11じはどれですか。	う	

30 なんじ なんじはん②

章
8

制限時間
20分

合格点
80点

点

ながい はりが 6 の とき、「なんじはん」になります。

とけいを みて、なんじか かきましょう。(3点×12問=36点)

6じはん	10じはん	3じはん	5じはん	9じはん	7じはん
4じはん	11じはん	1じはん	2じはん	12じはん	8じはん

みじかい はりを かきましょう。(3点×12問=36点)

4じはん	12じはん	2じはん	8じはん	1じはん	11じはん
6じはん	10じはん	3じはん	7じはん	5じはん	9じはん

もんだいに こたえましょう。(7点×4問=28点)

	あ	い	う	え	お	か
①	あは なんじ ですか。	3じはん	②	いは なんじ ですか。	6じはん	
③	7じはんは どれですか。	え	④	2じはんは どれですか。	お	

31 かたちあそび①

章
8

制限時間
20分

合格点
80点

点

かたちを あわせると、いろいろな ものを つくる ことができます。

なにを つくったのか、せんで むすびましょう。(5点×4問=20点)

つかった かたちには ○、つかって いない かたちには ×を かきましょう。(5点×4問=20点)

①	(○)	
②	(×)	
③	(○)	
④	(×)	

きめられた かたちだけ いろを めりましょう。(10点×3問=30点)

① さんかく 	② まる 	③ しかく
-------------------	-----------------	------------------

なかまに はいらない かたちを、○で かこみましょう。(5点×6問=30点)

①				②			
③				④			
⑤				⑥			

32 かたちあそび②

章
8

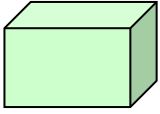
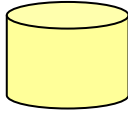

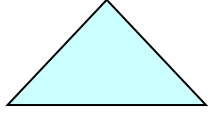
制限時間
20分

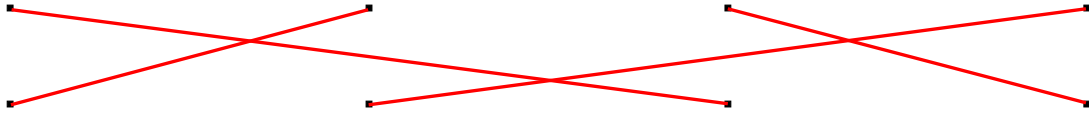
合格点
80点





点

はこの かたち、つつの かたち、ぼおるの かたち、さんかくの かたち があります。

にている かたちを、せんで むすびましょう。(5点×4問=20点)

はこの かたち 	つつの かたち 	ぼおるの かたち 	さんかくの かたち 
--	--	--	--







			
---	---	--	---

つぎの かたちが いくつ あるか かきましょう。(10点×4問=40点)

① はこの かたち (4)こ	
② つつの かたち (5)こ	
③ ぼおるの かたち (3)こ	
④ さんかくの かたち (2)こ	

どの かたちを うつした ものか、きごうを かきましょう。(10点×4問=40点)

①  お	②  え	
③  い	④  あ	

49 たしざん①

章
13



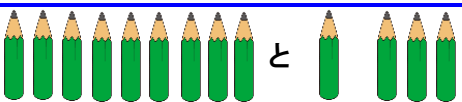
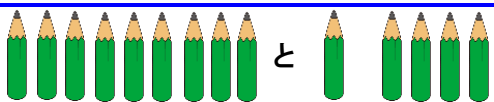
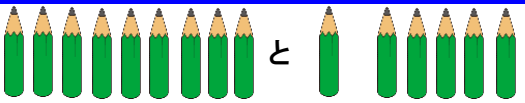

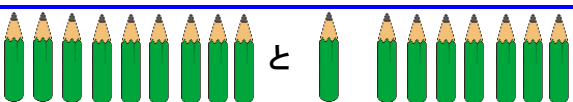
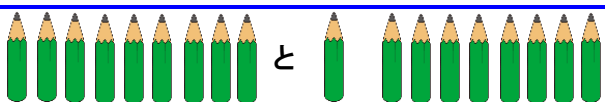
制限時間
20分

合格点
80点









点

9+6は、9+1+5にわけて、10+5=15になります。

あわせていくつになるか、しきに かきましょう。(5点×8問=40点)

①  $9 + 2 = 11$	②  $9 + 3 = 12$
③  $9 + 4 = 13$	④  $9 + 5 = 14$
⑤  $9 + 6 = 15$	⑥  $9 + 7 = 16$
⑦  $9 + 8 = 17$	⑧  $9 + 9 = 18$

●をかぞえて、たしざんを しましょう。(5点×8問=40点)

①  $9 + 2 = 11$	②  $9 + 3 = 12$
③  $9 + 4 = 13$	④  $9 + 5 = 14$
⑤  $9 + 6 = 15$	⑥  $9 + 7 = 16$
⑦  $9 + 8 = 17$	⑧  $9 + 9 = 18$

しきに かいて こたえましょう。(5点×4問=20点)

① いぬが 9ひき、ねこが 5ひき います。 あわせて なんびき ですか。		$9 + 5 = 14$ (ひき)
② おとこのこが 9にん、おんなのこが 4にん います。 あわせて なんにん ですか。		$9 + 4 = 13$ (にん)
③ はがきが 9まい、ふうとうが 8まい あります。 あわせて なんまい ですか。		$9 + 8 = 17$ (まい)
④ りんごが 9こ、なしが 3こ あります。 あわせて なんこ ですか。		$9 + 3 = 12$ (こ)

50 たしざん②

章
13




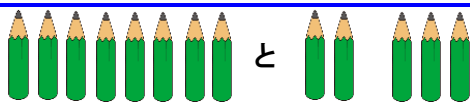

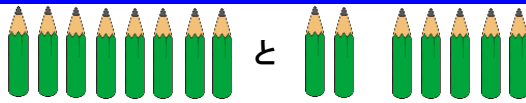
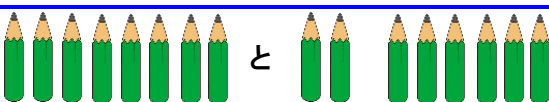
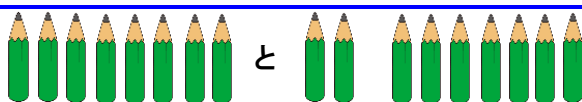
制限時間
20分

合格点
80点









点

8+6は、8+2+4にわけて、10+4=14になります。





あわせていくつになるか、しきにかきましょう。(5点×8問=40点)

①  $8 + 2 = 10$	②  $8 + 3 = 11$
③  $8 + 4 = 12$	④  $8 + 5 = 13$
⑤  $8 + 6 = 14$	⑥  $8 + 7 = 15$
⑦  $8 + 8 = 16$	⑧  $8 + 9 = 17$

●をかぞえて、たしざんをしましょう。(5点×8問=40点)

①  $8 + 2 = 10$	②  $8 + 3 = 11$
③  $8 + 4 = 12$	④  $8 + 5 = 13$
⑤  $8 + 6 = 14$	⑥  $8 + 7 = 15$
⑦  $8 + 8 = 16$	⑧  $8 + 9 = 17$

しきにかいてこたえましょう。(5点×4問=20点)

① めだまやきが8こ、たまごやきが5こあります。 あわせてなんこですか。		$8 + 5 = 13$ (こ)
② おとこのこが8にん、おんなのこが9にんいます。 あわせてなんにんですか。		$8 + 9 = 17$ (にん)
③ みかんが8こ、ももが3こあります。 あわせてなんこですか。		$8 + 3 = 11$ (こ)
④ くるまが8だい、じてんしゃが8だいあります。 あわせてなんだいですか。		$8 + 8 = 16$ (だい)

51 たしざん③

章
13

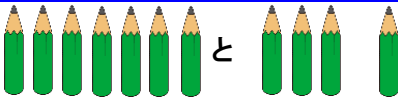
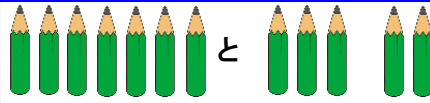
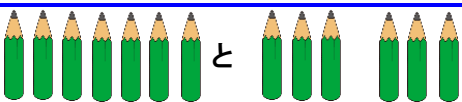
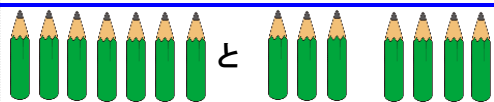
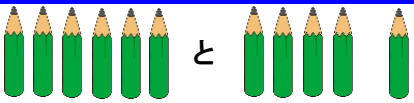
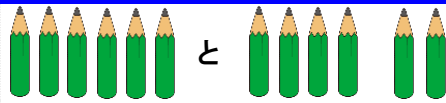
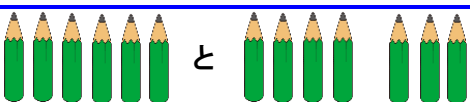
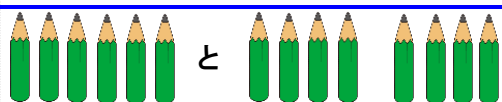
制限時間
20分

合格点
80点









点

7+6は、7+3+3にわけて、10+3=13になります。

あわせていくつになるか、しきにかきましょう。(5点×8問=40点)

①  $7 + 4 = 11$	②  $7 + 5 = 12$
③  $7 + 6 = 13$	④  $7 + 7 = 14$
⑤  $6 + 5 = 11$	⑥  $6 + 6 = 12$
⑦  $6 + 7 = 13$	⑧  $6 + 8 = 14$

●をかぞえて、たしざんをしましょう。(5点×8問=40点)

①  $7 + 6 = 13$	②  $7 + 7 = 14$
③  $7 + 8 = 15$	④  $7 + 9 = 16$
⑤  $6 + 6 = 12$	⑥  $6 + 7 = 13$
⑦  $6 + 8 = 14$	⑧  $6 + 9 = 15$

しきにかいてこたえましょう。(4点×3問=12点)

① 1ねんせいが7にん いました。 さらに5にん くと、ぜんぶで なんにん ですか。		$7 + 5 = 12$ (にん)
② くりが7こ ありました。 さらに4こ ひろうと、ぜんぶで なんこ ですか。		$7 + 4 = 11$ (こ)
③ うしが6とう いました。 さらに5とう くと、ぜんぶで なんと ですか。		$6 + 5 = 11$ (とう)
④ あさがおが6ほん さきました。 さらに9ほん さくと、ぜんぶで なんほん ですか。		$6 + 9 = 15$ (ほん)

52 たしざん④

章
13





制限時間
20分

合格点
80点





点

5+6は、5+5+1にわけて、10+1=11になります。

あわせていくつになるか、しきに かきましょう。(3点×4問=12点)

①  $5 + 6 = 11$	②  $5 + 7 = 12$
③  $5 + 8 = 13$	④  $5 + 9 = 14$

●をかぞえて、たしざんを しましょう。(3点×4問=12点)

①  $5 + 6 = 11$	②  $5 + 7 = 12$
③  $5 + 8 = 13$	④  $5 + 9 = 14$

しきに かいて こたえましょう。(4点×4問=16点)

① ねこが 5 ひき いました。 6 ひき うまれると、ぜんぶで なんひき ですか。		$5 + 6 = 11$ (ひき)
② きょうしつに 5 にん いました。 さらに 7 にん くと、ぜんぶで なんにん ですか。		$5 + 7 = 12$ (にん)
③ どんぐりが 5 こ ありました。 さらに 8 こ ひろうと、ぜんぶで なんこ ですか。		$5 + 8 = 13$ (こ)
④ おりがみが 5 まい ありました。 9 まい もらうと、ぜんぶで なんまい ですか。		$5 + 9 = 14$ (まい)

たしざんを しましょう。(2点×30問=60点)

① $9 + 3 = 12$	② $7 + 6 = 13$	③ $8 + 6 = 14$	④ $9 + 5 = 14$	⑤ $6 + 6 = 12$
⑥ $7 + 7 = 14$	⑦ $9 + 4 = 13$	⑧ $5 + 8 = 13$	⑨ $8 + 9 = 17$	⑩ $5 + 9 = 14$
⑪ $8 + 4 = 12$	⑫ $5 + 7 = 12$	⑬ $7 + 9 = 16$	⑭ $6 + 7 = 13$	⑮ $9 + 6 = 15$
⑯ $6 + 5 = 11$	⑰ $9 + 2 = 11$	⑱ $8 + 8 = 16$	⑲ $7 + 5 = 12$	⑳ $6 + 9 = 15$
㉑ $7 + 8 = 15$	㉒ $8 + 3 = 11$	㉓ $9 + 8 = 17$	㉔ $8 + 5 = 13$	㉕ $5 + 6 = 11$
㉖ $8 + 7 = 15$	㉗ $7 + 4 = 11$	㉘ $6 + 8 = 14$	㉙ $9 + 9 = 18$	㉚ $9 + 7 = 16$

53 ひきざん①

章
14

制限時間
20分

合格点
80点

点

14-9 は、10+4-9 に わけて 10-9=1、1+4=5 に なります。

のこりが いくつ に なるか、しき に かきましょう。(4点×10問=40点)

①		9ほんへる → $11 - 9 = 2$
②		9ほんへる → $12 - 9 = 3$
③		9ほんへる → $13 - 9 = 4$
④		9ほんへる → $14 - 9 = 5$
⑤		9ほんへる → $15 - 9 = 6$
⑥		9ほんへる → $16 - 9 = 7$
⑦		9ほんへる → $17 - 9 = 8$
⑧		9ほんへる → $18 - 9 = 9$

●をかぞえて、ひきざんをしましょう。(5点×8問=40点)

①	②
11-9=2	12-9=3
③	④
13-9=4	14-9=5
⑤	⑥
15-9=6	16-9=7
⑦	⑧
17-9=8	18-9=9

しきにかいてこたえましょう。(5点×4問=20点)

① 14ほんのうち、9ほんつかいました。 のこりは、なんほんですか。		$14 - 9 = 5$ (ほん)
② 12このうち、9こたべました。 のこりは、なんこですか。		$12 - 9 = 3$ (こ)
③ 15にんうち、9にんおりました。 のこりは、なんにんですか。		$15 - 9 = 6$ (にん)
④ 17まいのうち、9まいくばりました。 のこりは、なんまいですか。		$17 - 9 = 8$ (まい)

54 ひきざん②

章
14

制限時間
20分

合格点
80点

点

14-8 は、10+4-8 に わけて 10-8=2、2+4=6 に なります。

のこりが いくつに なるか、しきに かきましょう。(4点×10問=40点)

①		8 ぽん へる → $10 - 8 = 2$
②		8 ぽん へる → $11 - 8 = 3$
③		8 ぽん へる → $12 - 8 = 4$
④		8 ぽん へる → $13 - 8 = 5$
⑤		8 ぽん へる → $14 - 8 = 6$
⑥		8 ぽん へる → $15 - 8 = 7$
⑦		8 ぽん へる → $16 - 8 = 8$
⑧		8 ぽん へる → $17 - 8 = 9$

●をかぞえて、ひきざんを しましょう。(5点×8問=40点)

①	②
10-8=2	11-8=3
③	④
12-8=4	13-8=5
⑤	⑥
14-8=6	15-8=7
⑦	⑧
16-8=8	17-8=9

しきに かいて こたえましょう。(5点×4問=20点)

① たまごが 16 こ あります。 8 こ つかうと のこりは なんこ ですか。		$16 - 8 = 8$ (こ)
② ちゅうがくせい が 13 にん います。 8 人 かえると、のこりは なんにん ですか。		$13 - 8 = 5$ (にん)
③ あめが 17 こ ありました。 8 こ たべると、のこりは なんこ ですか。		$17 - 8 = 9$ (こ)
④ ねこが 11 ぴき いました。 8 ぴき いなくなると、のこりは なんぴき ですか。		$11 - 8 = 3$ (ぴき)

55 ひきざん③

章
14









制限時間
20分

合格点
80点









点

14-7 は、10+4-7 に わけて 10-7=3、3+4=7 に なります。


のこりがいくつになるか、しきに かきましょう。(4点×10問=40点)

①		7ほんへる → $12 - 7 = 5$
②		7ほんへる → $13 - 7 = 6$
③		7ほんへる → $14 - 7 = 7$
④		7ほんへる → $15 - 7 = 8$
⑤		6ぽんへる → $12 - 6 = 6$
⑥		6ぽんへる → $13 - 6 = 7$
⑦		6ぽんへる → $14 - 6 = 8$
⑧		6ぽんへる → $15 - 6 = 9$

●をかぞえて、ひきざんをしましょう。(5点×8問=40点)

①  11-7=4	②  12-7=5
③  13-7=6	④  14-7=7
⑤  11-6=5	⑥  12-6=6
⑦  13-6=7	⑧  14-6=8

しきに かいて こたえましょう。(5点×4問=20点)

① すずめが 16 わ、はとが 7 わ います。 ちがいは なんわ ですか。		$16 - 7 = 9$ (わ)
② じょしが 15 にん、だんしが 7 にん います。 ちがいは なんにん ですか。		$15 - 7 = 8$ (にん)
③ なしが 15 こ、ぶどうが 6 こ あります。 ちがいは なんこ ですか。		$15 - 6 = 9$ (こ)
④ きってが 11 まい、はがきが 6 まい あります。 ちがいは なんまい ですか。		$11 - 6 = 5$ (まい)

56 ひきざん④

章
14





制限時間
20分

合格点
80点





点

14-5 は、10+4-5 に わけて 10-5=5、5+4=9 に なります。



のこりが いくつに なるか、しきに かきましょう。(3点×4問=12点)

①		5ほんへる → $11 - 5 = 6$
②		5ほんへる → $12 - 5 = 7$
③		5ほんへる → $13 - 5 = 8$
④		5ほんへる → $14 - 5 = 9$

●をかぞえて、ひきざんを しましょう。(3点×4問=12点)

①		$11 - 5 = 6$
②		$12 - 5 = 7$
③		$13 - 5 = 8$
④		$14 - 5 = 9$

しきに かいて こたえましょう。(4点×4問=16点)

①	おにぎりが 11 こ、からあげが 5 こ あります。 ちがいは なんこ ですか。		$11 - 5 = 6$ (こ)
②	1 ねんせい が 13 にん、2 ねんせい が 5 にん います。 ちがいは なんにん ですか。		$13 - 5 = 8$ (にん)
③	いちごが 12 こ、すいかが 5 こ あります。 ちがいは なんこ ですか。		$12 - 5 = 7$ (こ)
④	くぎが 14 ほん、ねじが 5 ほん あります。 ちがいは なんほん ですか。		$14 - 5 = 9$ (ほん)

ひきざんを しましょう。(2点×30問=60点)

①	$14 - 9 = 5$	②	$11 - 6 = 5$	③	$18 - 9 = 9$	④	$12 - 8 = 4$	⑤	$14 - 5 = 9$
⑥	$16 - 7 = 9$	⑦	$12 - 5 = 7$	⑧	$11 - 7 = 4$	⑨	$15 - 9 = 6$	⑩	$16 - 8 = 8$
⑪	$11 - 5 = 6$	⑫	$11 - 9 = 2$	⑬	$14 - 7 = 7$	⑭	$17 - 8 = 9$	⑮	$15 - 6 = 9$
⑯	$13 - 8 = 5$	⑰	$13 - 6 = 7$	⑱	$13 - 5 = 8$	⑲	$17 - 9 = 8$	⑳	$15 - 8 = 7$
㉑	$16 - 9 = 7$	㉒	$14 - 8 = 6$	㉓	$14 - 6 = 8$	㉔	$13 - 7 = 6$	㉕	$13 - 9 = 4$
㉖	$12 - 7 = 5$	㉗	$11 - 8 = 3$	㉘	$12 - 9 = 3$	㉙	$12 - 6 = 6$	㉚	$15 - 7 = 8$